





الاسم: اللقب: الرقم: القسم: 8 أس ...	التربية التكنولوجية فرض تأليفي ع 2 دد	معهد حي البستان قليبية
20\	الأستاذ: عبد الحميد حسونة	التاريخ: 2008 / 03 / 04

التمرين الأول: أتمم الجدول التالي :

المكون	اسم المكون	الرمز	الوظيفة
	قاطع إلكتروني	X DE
	قاطع آلي	
	قاطع فارقي	
	صهيرة	

التمرين الثاني:

أرسم دائرة كهربائية متكوّنة من بطارية وصهيرة و زر ضاغط و مقاوم متغير و جرس كهربائي و فولطمتر لقيس فرق الجهد عند الجرس (بالرموز و حسب الترتيب المذكور):

3

يرتفع فرق الجهد عند الجرس كلما قيمة المقاومة و ينخفض كلما قيمة المقاومة

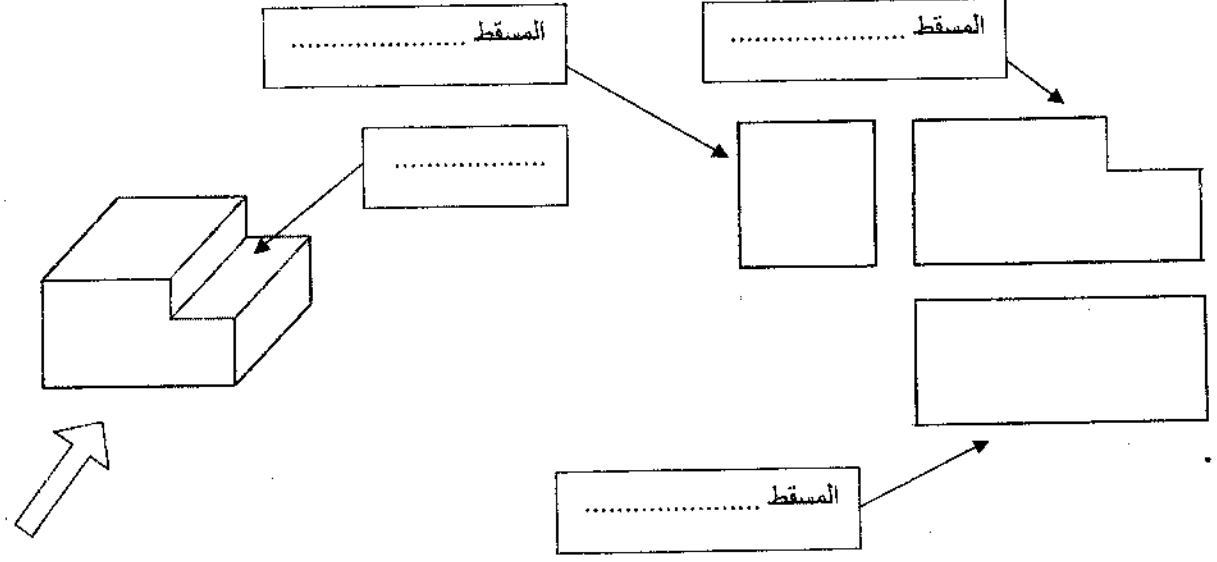
التمرين الثالث:

أتمم الجدول بما يناسب :

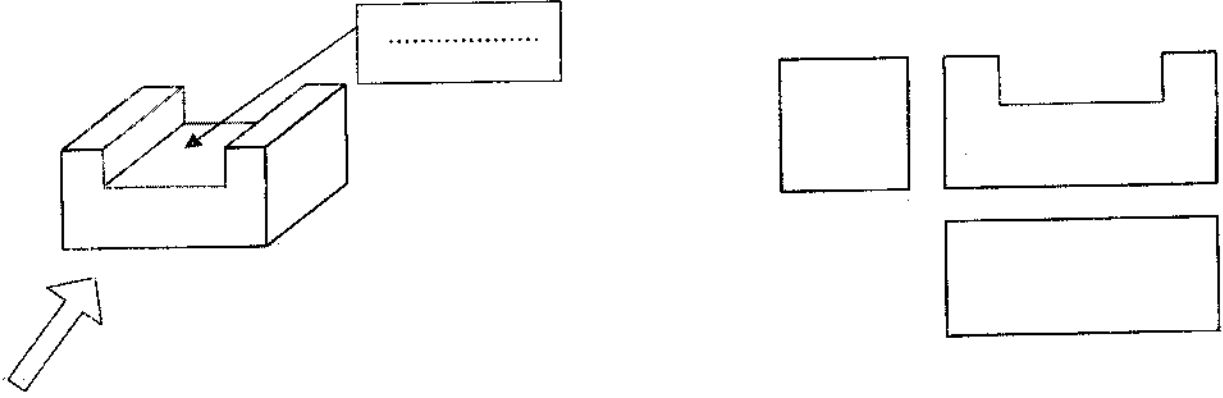
الخصائص الكهربائية	الرمز	الوحدة	رمز الوحدة
الجهد الكهربائي	U
شدة التيار الكهربائي	A

2

التمرين الرابع: أتم رسم المساقط و الفراغات معتمدا على الرسم المنظوري :



4



2.5

التمرين الخامس: أتم الجدول التالي:

أنواع خطوط الرسم	أنواع الرسوم التقنية
.....
.....
.....
.....

4