

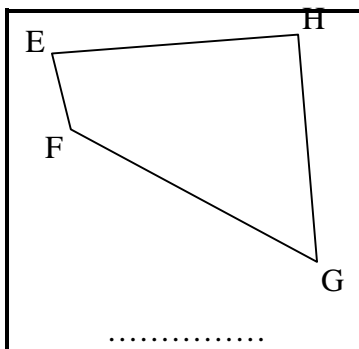
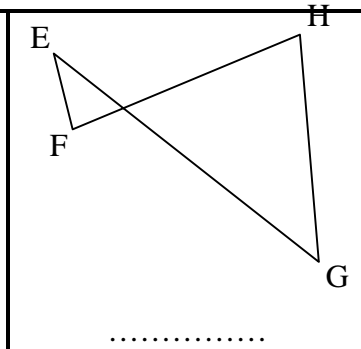
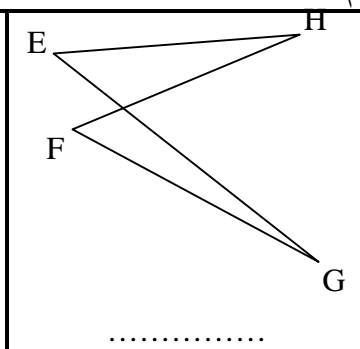
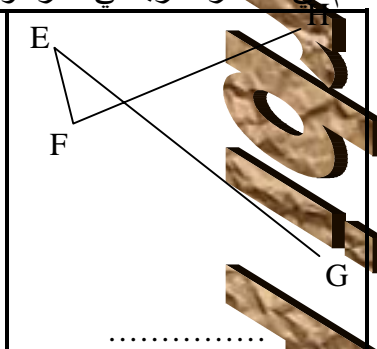
التمرين رقم 1  
ABCD في كل حالة من الحالات التالية ، ارسم الرباعي

$B \times$ $\times A$ $\times D$ $C \times$	$B \times$ $\times A$ $\times C$ $D \times$	$C \times$ $\times A$ $\times B$ $D \times$	$B \times$ $\times C$ $\times D$ $A \times$
--	--	--	--

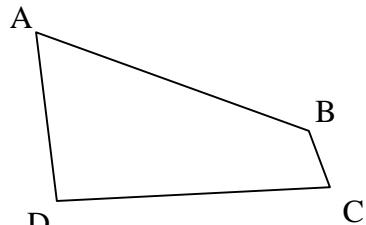
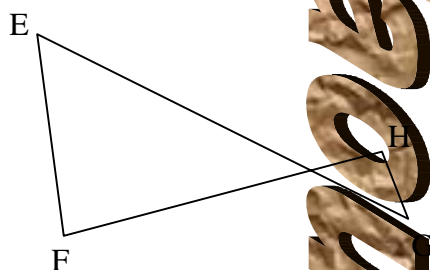
ارسم في كل حالة الرباعي المطلوب

$E \times$ EFGH $\times H$ $\times G$ $F \times$	$E \times$ EHG F $\times H$ $\times F$ $G \times$	$E \times$ GFEH $\times G$ $\times F$ $H \times$	$E \times$ HFGE $\times H$ $\times F$ $G \times$
---	--	---	---

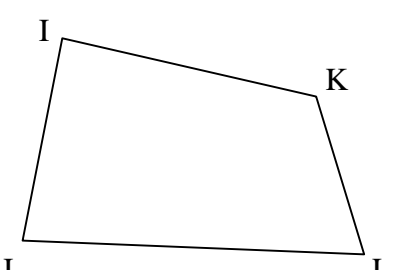
التمرين رقم 2  
سم في كل مرة الرباعي المرسوم

 <p>.....</p>	 <p>.....</p>	 <p>.....</p>	 <p>.....</p>
--	---	--	---

التمرين رقم 3  
أعط يدائرة الاسم الصحيح للرباعي المقترح

<p>ABCD ADCB BCDA DCAB CABD BADC DACB DCBA ABDC CDAB CBDA BDAC</p>		<p>EFGH GEFH EFHG GHEF HFGE HGFE EGFH GFEH EHGF HFEG FEGH FGHE</p>	
--	---	--	---

التمرين رقم 4  
وعد أسماء الثمانية لكل رباعي من الرباعيين التاليين واكتبها في الجدول المخصص لهذا الغرض

<table border="1"> <tr><td></td><td></td></tr> <tr><td></td><td></td></tr> <tr><td></td><td></td></tr> <tr><td></td><td></td></tr> </table>										<table border="1"> <tr><td></td><td></td></tr> <tr><td></td><td></td></tr> <tr><td></td><td></td></tr> <tr><td></td><td></td></tr> </table>									