

الإسم:..... اللقب:.....		الفرص التأليفية ع1 عدد المادة: التربية التكنولوجية		المدرسة الإعدادية سهلول حمام سوسة
العدد المسند: 20	الرقم:..... القسم:9...	الضارب: أ	التوقيت: ساعة واحدة	التاريخ:.....

التمرين الأول:

1 - تتنوع آراء و اختيارات أفراد مكتب الدراسات في ترتيب وظائف الخدمات. فقرر مدير المؤسسة أن يستند الجميع إلى هذا الاختيار. ابحث عن القيمة و النسبة المئوية لكل وظيفة.

النسب المئوية	مجموع النقاط	وت5	وت4	وت3	وت2	وت1	ورا1
		3) ورا1	3) ورا1	3) ورا1	2) ورا1	3) ورا1	ورا1
		2) ورا1	3) ورا1	2) ورا1	3) ورا1	وت1	
		3) ورا2	2) ورا2	3) ورا3	وت2		
		3) ورا3	2) ورا3	وت3			
		3) ورا5	وت4				
		وت5					
		المجموع					

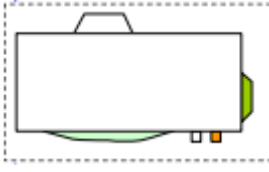
2 - أنجز الرسم البياني لترتيب الوظائف



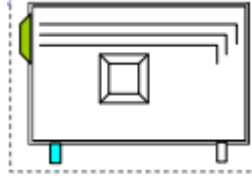
3 - كراس الشروط الوظيفي تحتوي على: (ضع في إطار العبارات الصحيحة)

- | | |
|-----------------------|------------------------------|
| ✧ إطار الصنع | ✧ تقديم عام للمنتج |
| ✧ تضخيم وظائف الخدمات | ✧ التعبير عن الحاجة |
| ✧ ترتيب وظائف الخدمات | ✧ مستندات المؤسسة المصنعة |
| ✧ التعبير الوظيفي | ✧ تحديد خاصيات وظائف الخدمات |
| ✧ قرارات لجان التأديب | ✧ شحن الشرط و الوظائف |

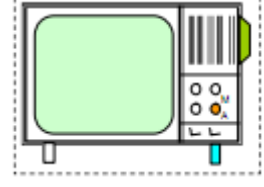
1- أذكر أسماء المساقط التالية منطلقين من الرسم رقم ①



③

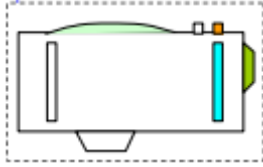


②

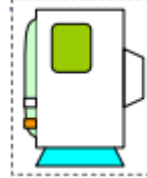


①

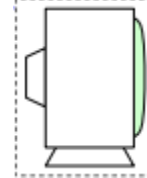
المسقط الأمامي



⑥

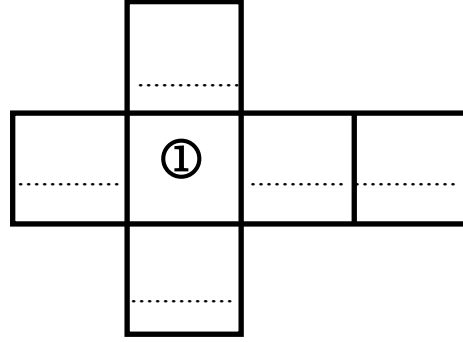


⑤



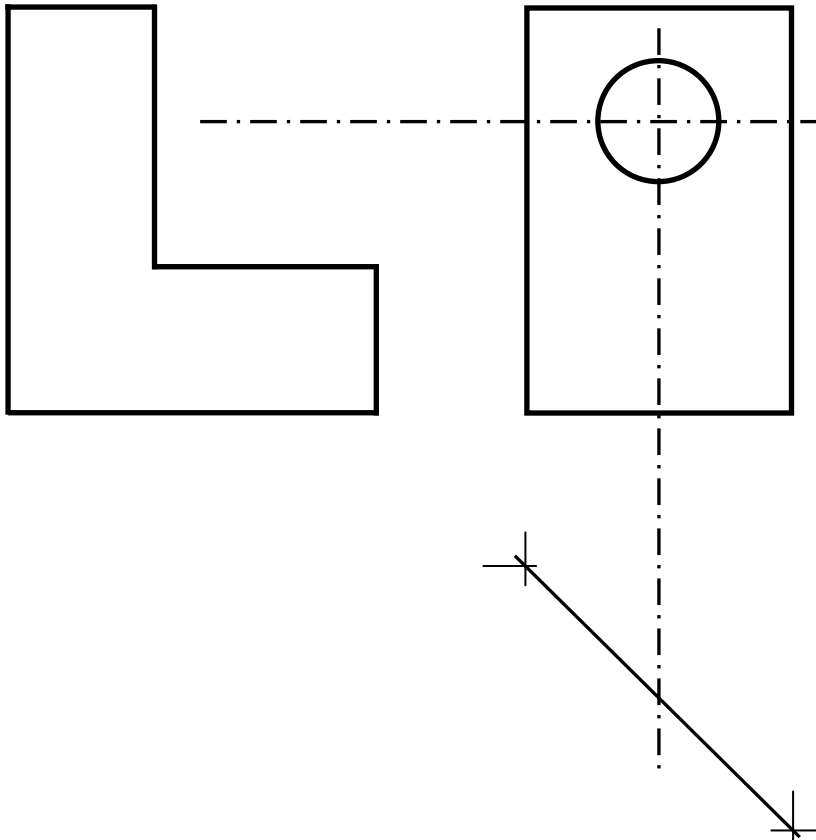
④

- حدد مواقع هذه المساقط حسب هذا المدرج بكتابة الرقم المناسب.



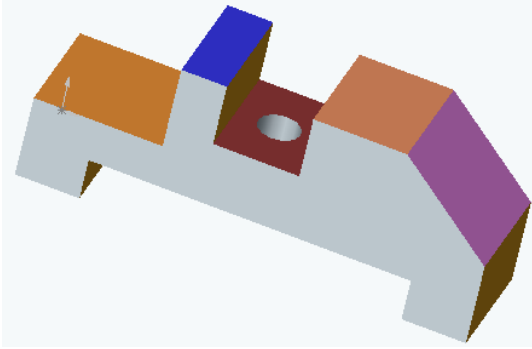
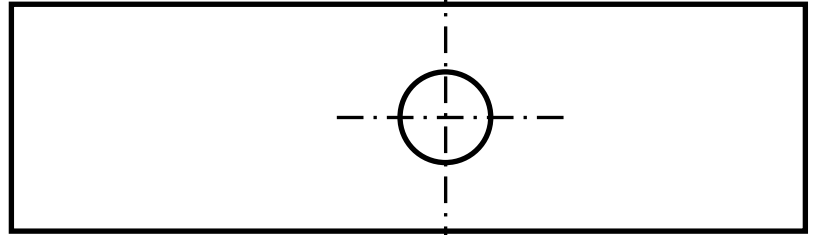
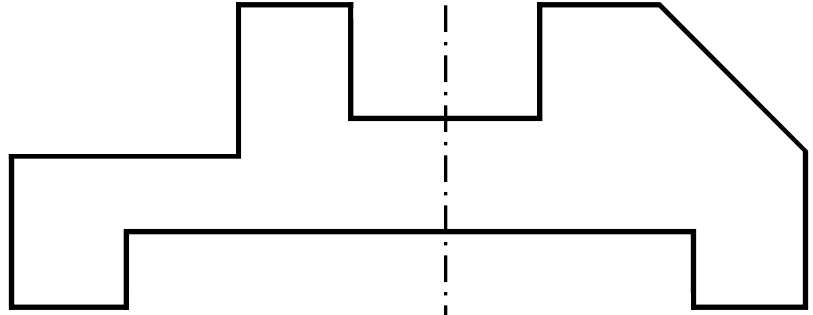

2 - أكمل رسم المساقط التالية:

- المسقط الأمامي
- المسقط اليساري
- المسقط العلوي



3 - أكمل رسم المساقط التالية:

2.5



التمرين الثالث:

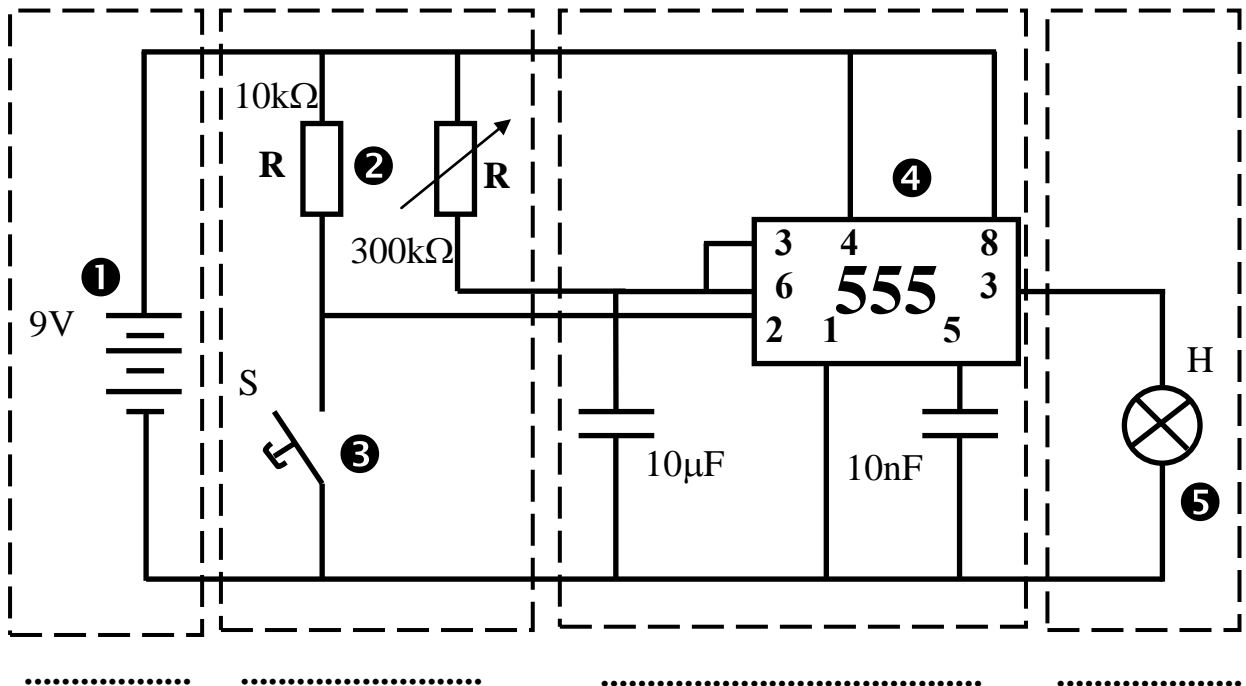
1 - ما هي نوع الإشارة المناسبة في هذه الأجهزة؟

1

نوع الإشارة	الأجهزة
.....	فرن
.....	مكواة
.....	غسالة
.....	الحاسوب

2- حدد في هذا الرسم أسماء الأجزاء:

2



3- اذكر أسماء المكونات المرقومة في الجدول:

..... -1
..... - 2
..... -3
..... - 4
..... -5

4 - اذكر الأجهزة التي تستعمل عنصر التوقيت بوضع علامة في الخانة المناسبة

- | | |
|--|--|
| <input type="checkbox"/> مكيف | <input type="checkbox"/> تلفاز |
| <input type="checkbox"/> آلة ثقب كبيرة | <input type="checkbox"/> آلة قطع المعادن |
| <input type="checkbox"/> مصعد كهربائي | <input type="checkbox"/> فرن |

الإسم:..... اللقب:.....		الفرص التألفف عـ1 دد المادة: الترففة التكنولوففة		المدرسة الإعداففة سهول حمام سوسفة
العدد المسند: 20	الرقم:..... القسم:9...	الضارب: أ	التوففئ: ساعة واحدة	التارفخ:.....

التمرفن الأول:

1 - تنوع أراء و اءفئارات أفراد مكئ الدراسات فف ترتفب وظائف الءءمات.
فقرر مفر المؤسسة أن فسئء الجمفع إلى هذا الاءفئار.
ابءء عن الففمة و النسبة المأوفة لكل وظففة.

النسب المائوفة	مجموع النقاط	وئ7	وئ6	وئ5	وئ4	وئ3	وئ2	وئ1	ور1
		ور1 2	ور1 1	ور1 2	ور1 3	ور1 2	ور1 2	ور1 3	ور1 1
		وئ1 3	وئ1 1	وئ1 2	وئ1 3	وئ1 2	وئ1 1	وئ1 1	وئ1 1
		وئ2 1	وئ2 2	وئ2 3	وئ2 2	وئ3 1	وئ2 2	وئ2 2	وئ2 1
		وئ7 1	وئ6 1	وئ3 1	وئ3 1	وئ3 3	وئ3 3	وئ3 3	وئ3 3
		وئ7 2	وئ6 2	وئ5 2	وئ4 4	وئ4 4	وئ4 4	وئ4 4	وئ4 4
		وئ7 1	وئ6 3	وئ5 5	وئ5 5	وئ5 5	وئ5 5	وئ5 5	وئ5 5
		وئ6 0	وئ6 6	وئ6 6	وئ6 6	وئ6 6	وئ6 6	وئ6 6	وئ6 6
		وئ7 7	وئ7 7	وئ7 7	وئ7 7	وئ7 7	وئ7 7	وئ7 7	وئ7 7
			المجموع						

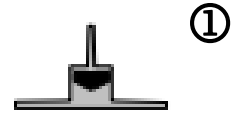
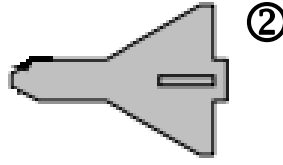
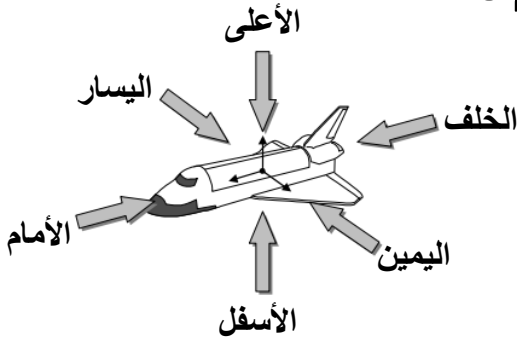
2 - أنجز الرسم البفانف لترتفب الوظائف



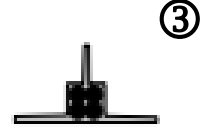

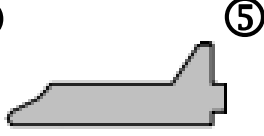
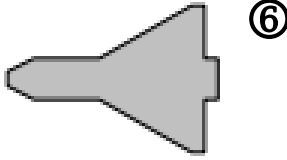
3 - كراس الشروط الوظففف فءءوف على:(اشطب العبارة الءاطئة)

- ✧ إءار الصنع
- ✧ قراءات لجان الأءفب
- ✧ فءضفم وظائف الءءمات
- ✧ ترتفب وظائف الءءمات
- ✧ الفءفر الوظففف
- ✧ فءفم عام للمءء
- ✧ شءن الشرء و الوظائف
- ✧ الفءفر عن الءءاة
- ✧ مسئءاء المؤسسة المصنعة
- ✧ فءفء فاصفاء وظائف الءءمات

1- أذكر أسماء المساقط التالية منطلقين من الرسم رقم ①

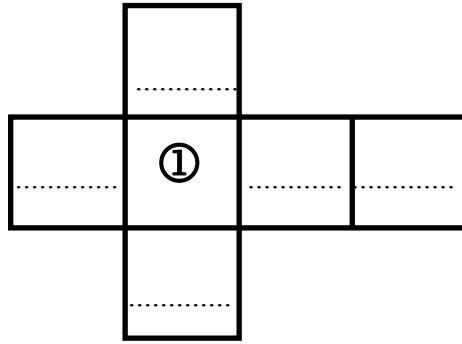


المسقط الأمامي



2.5

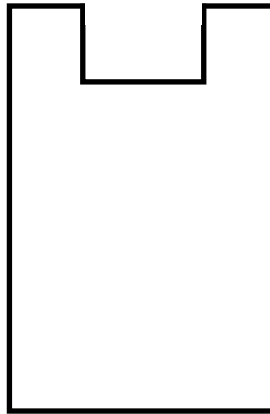
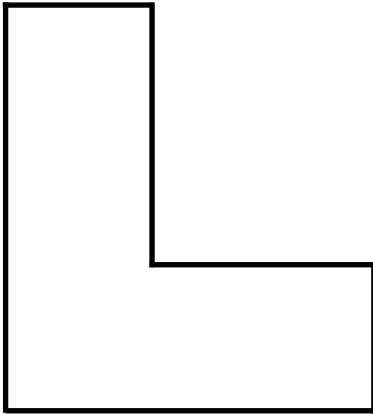
- حدد مواقع هذه المساقط حسب هذا المدرج بكتابة الرقم المناسب.



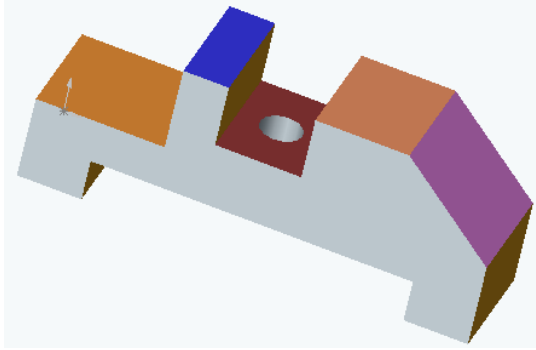
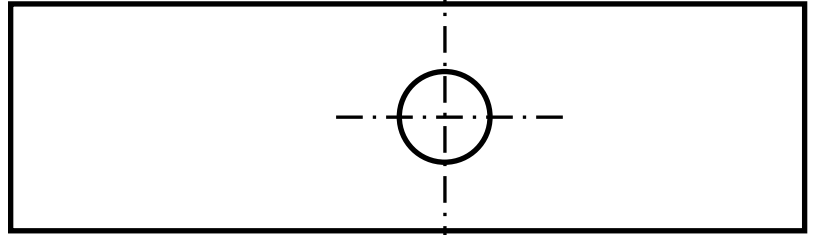
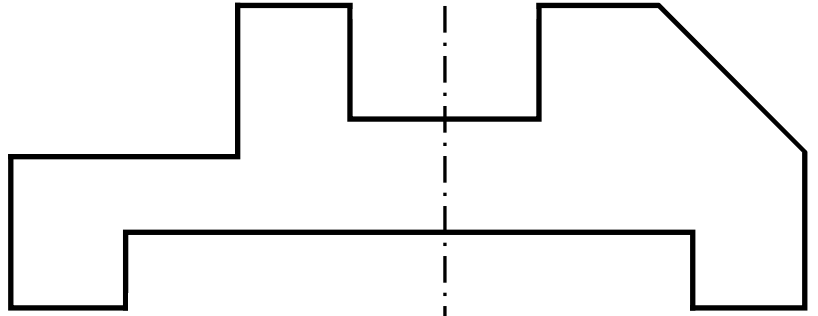

2 - أكمل رسم المساقط التالية:

- المسقط الأمامي
- المسقط اليساري
- المسقط العلوي

2.5



3 - أكمل رسم المساقط التالية:



التمرين الثالث:

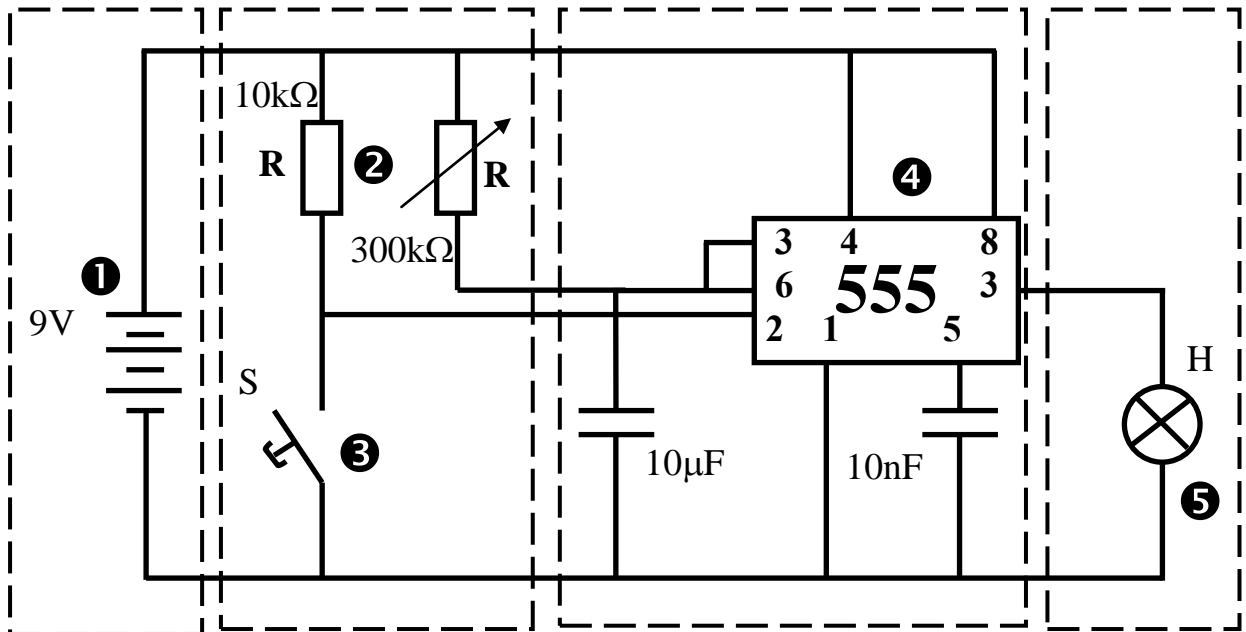
1 - ما هي نوع الإشارة المناسبة في هذه الأجهزة؟

1

نوع الإشارة	الأجهزة
.....	جهاز إنذار ضد تسرب الغاز
.....	دراجة عادية
.....	جهاز لشحن البطاريات
.....	جهاز المولتي متر لمعرفة الناقلية الكهربائية

2- حدد في هذا الرسم أسماء الأجزاء:

2



3- اذكر أسماء المكونات المرقومة في الجدول:

..... -1
..... - 2
..... -3
..... - 4
..... -5

4 - اذكر الأجهزة التي تستعمل عنصر التوقيت بوضع علامة في الخانة المناسبة

- | | |
|--|---|
| <input type="checkbox"/> ميزان الكتروني | <input type="checkbox"/> جهاز قيس حرارة الانسان |
| <input type="checkbox"/> آلة ثني البلاستيك | <input type="checkbox"/> آلة طهي المأكولات |
| <input type="checkbox"/> مصعد كهربائي | <input type="checkbox"/> آلة التشكيل الحراري |