


المدرسة الإعدادية فطومة بورقيبة	فرض تألوفي عدد 2 في التربية التكنولوجية		8 أساسي.....
الأستاذ : حسان السايحي			الاسم:.....
التاريخ:	التوقيت: 60دق	الضارب: 1	اللقب:.....



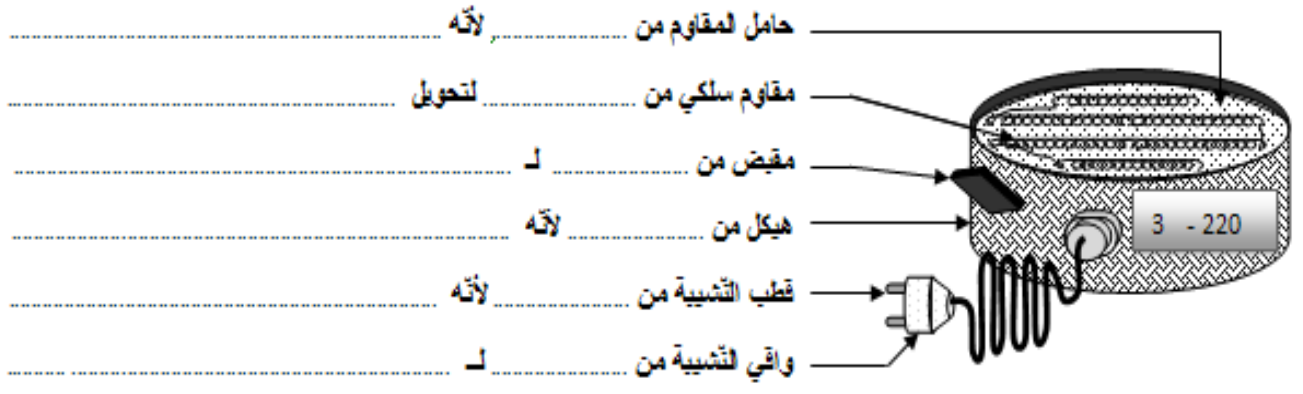
ملاحظة: نظافة ورقة الامتحان (1 نقطة)

سؤال ع 1 عدد : 3

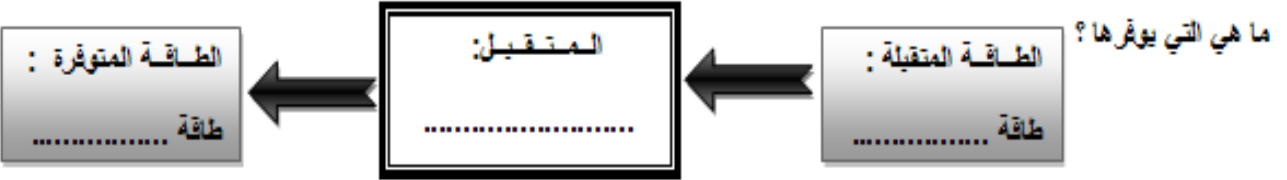
أكمل الفقرة التالية : " تتكوّن الدارة الكهربائيّة من مصدر تغذية لـ بالطاقة الكهربائيّة، جهاز لحملية الدارة من التيزر الكهربائي، جهاز تحكّم لـ في الدارة ، لنقل لتيّار الكهربائي من إلى وممتقل لتحويل الطاقة إلى طاقة صوتيّة، طاقة ، طاقة ، طاقة " .

سؤال ع 2 عدد : 6

1 - من بين الموادّ التالية (رخام ، بلاستيك ، نحاس ، نيكال ، فولاذ مطلي، باكليت ، بلور ، خشب) ، اذكر المادّة المستعملة لصنع كلّ مكوّن من مكوّنات لسخّان الكهربائي ، علّل جوابك بتحديد بعض الخاصيات مثل (ناقل للكهرباء ، عازل للحرارة)



2 - لسخّان الكهربائي هو جهاز تقني يحتوي على متقليل كهربائي. ما هو نوع المتقليل ؟ ما هي الطاقة التي يتقبلها ؟

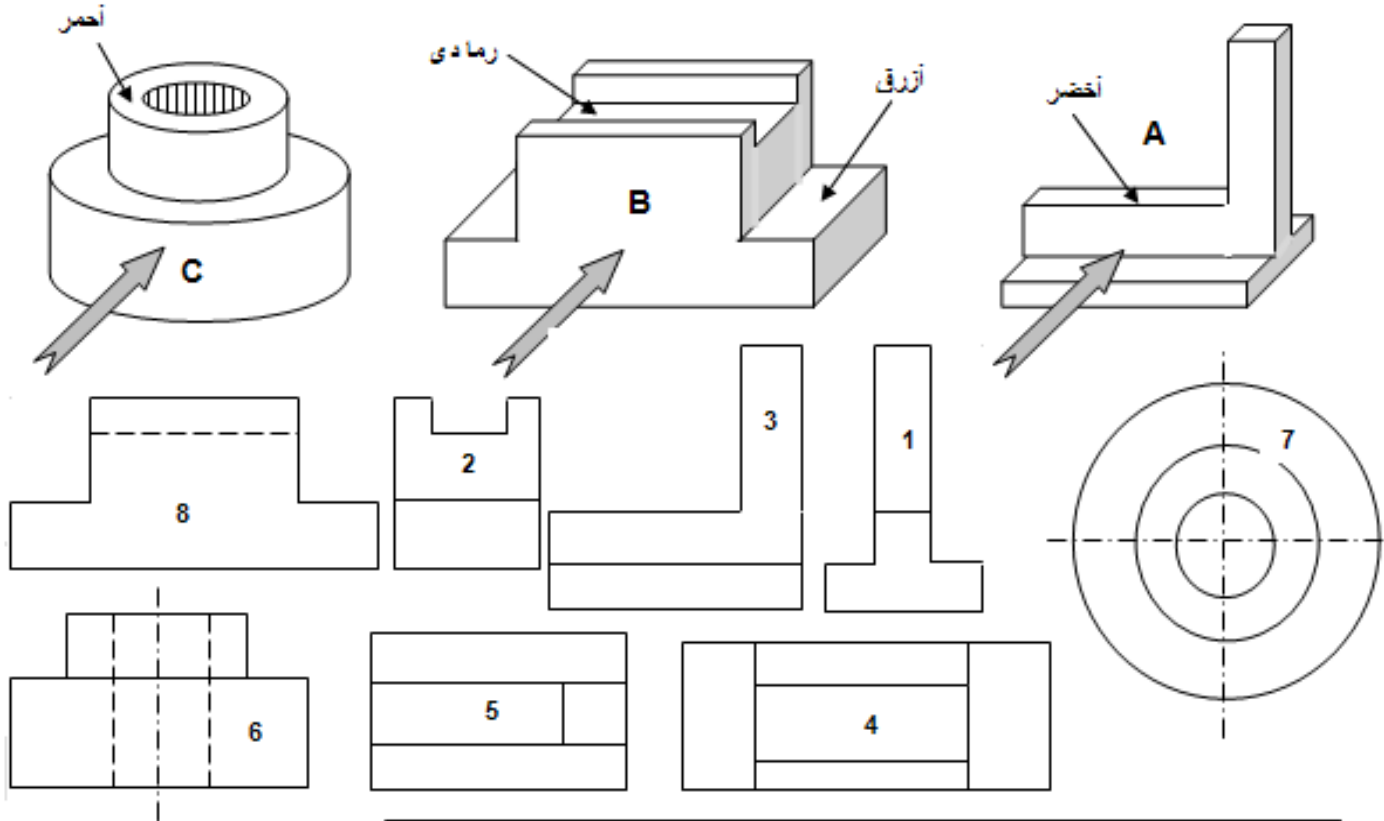


3 - أقرأ الخاصيات الكهربائيّة للسخان : 220 v : : 3 A

سؤال عـ 3 دد 10:

1- حدد المسقط الرأسى، اليسارى و العلوي للقطع

2 - لون بالألوان المحددة الأضلاع والمساحات على المساقط المناسبة



الرسم المتظوري	الرسم A	الرسم B	الرسم C
المسقط الرأسى	-----	-----	-----
المسقط العلوي	-----	-----	-----
المسقط اليسارى	-----	-----	-----