

م ا الطاهر صفر المروج 3


فرض تألّيفي عدد1

الاسم و اللقب:.....

الأستاذة:راضية السنوسي

علوم الحياة و الأرض

القسم 9 وأساسي 3_2_1



الجزء الأوّل (12 نقطة)

تمرين عدد1 : أجب بصواب أو خطأ و أ صلح الجمل الخاطئة(5نقاط)

❖ يملك الضفدع النخاعي مركزا عصبيا واحدا وهو الدماغ

.....

❖ تحتوي المادّة السنجابية على ألياف عصبيّة

.....

❖ عصب النسا عصب مزدوج

.....

❖ خلال الفعل الانعكاسي تنتقل الاليف الحركيّة السائلة من المستقبل الحسيّ إلى المركز العصبي

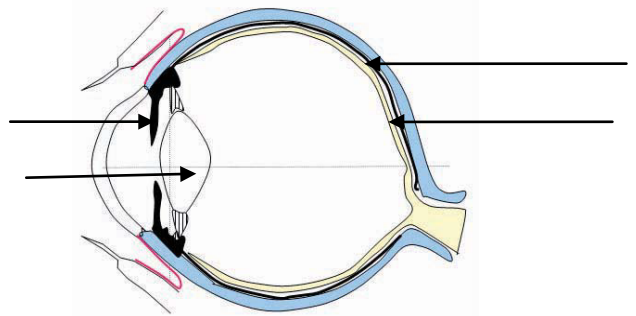
.....

❖ الفعل الانعكاسي هو دائما ودّ فعل تجاه منبه خارجي أو داخلي

.....

تمرين عدد2 : (4نقاط) يمثّل الرسم التالي مقطعا أماميا خلفيا للعين

❖ ضع بيانات الرسم



تعمل العين مثل آلة التصوير لأنهما يملكان مكونات متشابهة من حيث الدور.

❖ حدّد نوع الصّورة التي تكوّنها العين :.....

❖ يمثّل الجدول التالي مقارنة بين العين و آلة التصوير , املأ فراغاته

الوظيفة	أجزاء آلة التصوير	أجزاء العين
.....	1
.....	2
.....	3
.....	4

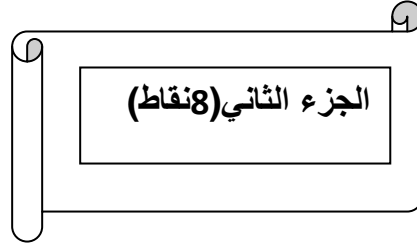
تمرين عدد3:(3نقاط) أجب الافادة أو الإفادات الصّحيحة .

✓ الصّلبة : غشاء أسود رقيق _ غشاء أبيض سميك _ غشاء شفاف رقيق

✓ العصب البصري : عصب حركي - عصب حسي _ عصب مزدوج

✓ الجسم البلوري : عدسة محدّبة الوجهين _ عدسة مقعّرة الوجهين _ وسط شفاف

✓ الشبكيّة : غشاء رقيق شفاف _ ترسم عليها الصورة _ عضلة منفذّة



1_ لديك صديقا مصابا بداء السكري ذهبت معه ليتلقّى حقنة " الأنسولين " فلاحظت أنّ الممرض يبعد الحقنة

عن عينيه ليتمكّن من قراءة الأرقام جيّدا و تحديد الكميّة .

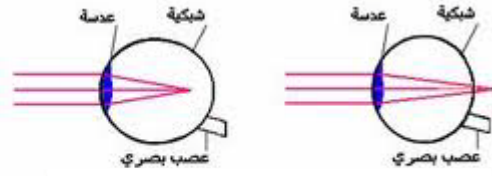
✓ حدّد العيب البصري الذي يعاني منه الممرض :.....

✓ علّل إجابتك معتمدا على النصّ.....

✓ حدّد أسباب العيب :.....

.....

✓ أخط العين المناسبة لهذا العيب:



2_ وخزت الإبرة اليد اليمنى للممرض ف جذب يده بسرعة

✓ حدد ممّا يلي العناصر المتدخّلة في هذا الفعل الانعكاسي

عصب النّسا_ عضلة اليد اليمنى_ النخاع الشوكي_ الدّمَاغ_ العصب الرابط بين اليد اليمنى و
النخاع الشوكي_ عضلة اليد_ الجلد_ الشبكية

✓ حرّر فقرة تصف من خلالها مسار السيالة العصبية خلال هذه الحركة

.....

.....

.....

.....

3_ عند خروجكم من محلّ التّمرّض شعر صديقك بالجوع فتناول طبق أرز

✓ تعرّف بعض المكونات الغذائيّة البسيطة للارز من خلال التجارب التالية

أرز+ماء اليود	الأرز +التسخين	رشاحة الأرز +محلول الفهلنق+التسخين	التجربة
.....	البخار	راسب أحمر اجري	النتيجة
يحتوي الأرز على النشا	الاستنتاج

✓ هل بإمكان صديقك تناول هذا الطعام

.....

