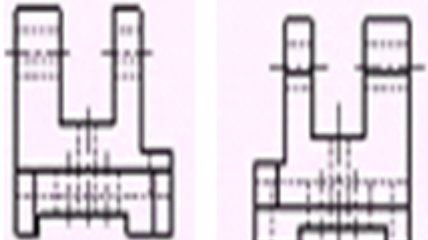
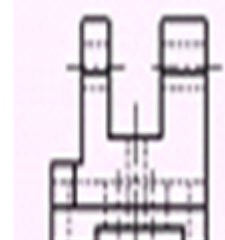


8 أساسي الإسم القب:	20 /	اختبار عدد 2 التربية التكنولوجية	المدرسة الإعدادية بالمنار 2
الرقم:	التاريخ:/...../.....	المدة الزمنية: 30 دقيقة	الأستاذ: ماهر القسطيني

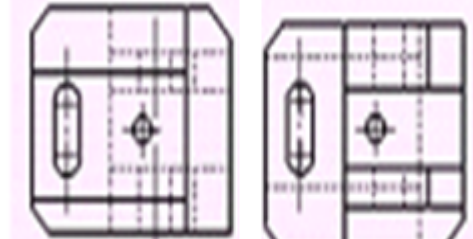
1




4



2



3



.....

.....

.....

.....

.....

التمرين 1 : أكمل الفراغات بأرقام المساقط المناسبة.

..... / 4

..... / 4

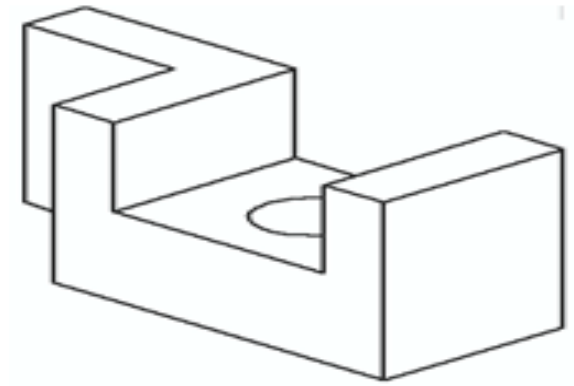
التمرين 2 :

أ - أكمل كل فراغ باسم المسقط المناسب.

ب - أكمل رسم المسقطين الناقصين بأرقام :

* المسقط رقم 3. /

* المسقط رقم 4. 12



..... المسقط - 1

..... المسقط - 2

..... المسقط - 3

