


اسم و لقب التلميذ قسم: 9 أساسي الرقم

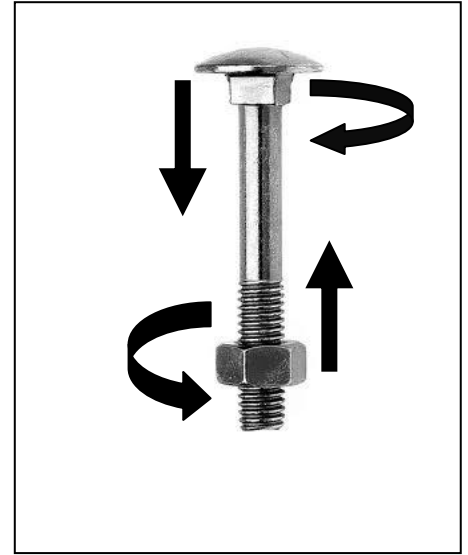
1. النشاط 1

(1) أكمل الفراغ بما يناسب: يميني - يساري

/2.....



قطعة تحتوي على لولب

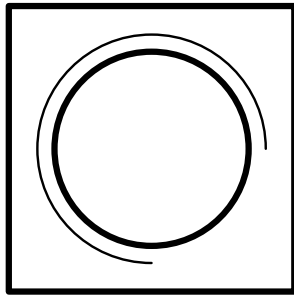


قطعة تحتوي على لولب


/2.....

(2) اذكر نوع اللولب الموجود على كل قطعة حسب رسمها المقنن.

لولب



لولب



(3) ترقيم اللولب حسب المواصفات العالمية

/1.5....

(أ) ما هو اتجاه اللولب؟

.....

(ب) بعد تدوير البرغي 6 مرات ما هي المسافة التي تقدمها؟

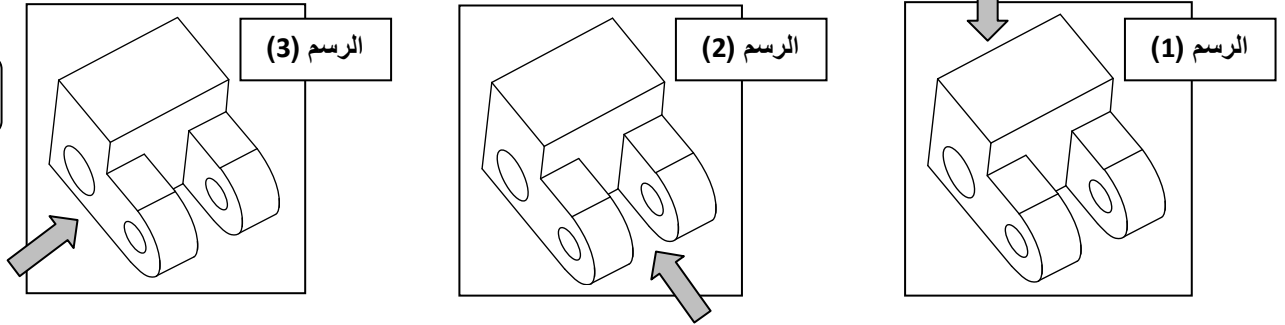
.....

(أ) ما هو شكل أسنان اللولب؟

.....

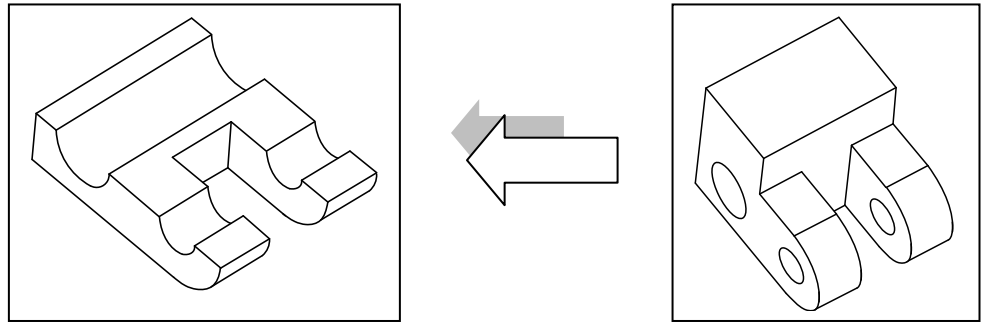
II. النشاط 2

4) لون الوجه العلوي للقطعة في الرسم (1) و الوجه اليميني في الرسم (2) و الوجه الأمامي في الرسم (3).
معتدا على سهم اتجاه النظر



..../1.5

5) لون المساحة التي يمر عليها المنشار عند القطع.



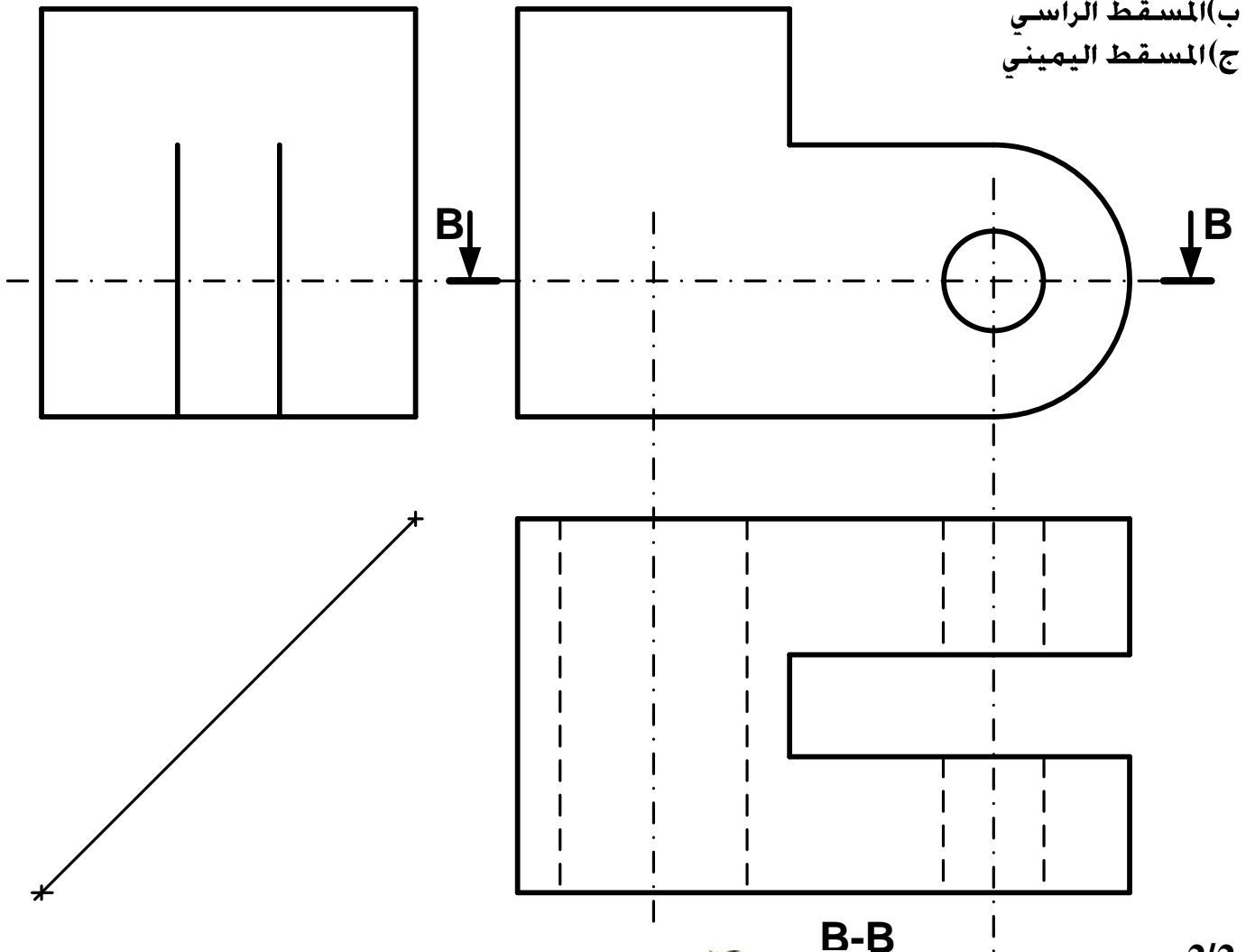
...../1

6) بالاعتماد على الرسم المنظوري للقطعة اتمم الرسم التالي:

أ) المسقط العلوي حسب القطاع B-B (رسم التخديش)

ب) المسقط الراسي

ج) المسقط اليميني



B-B

2/2