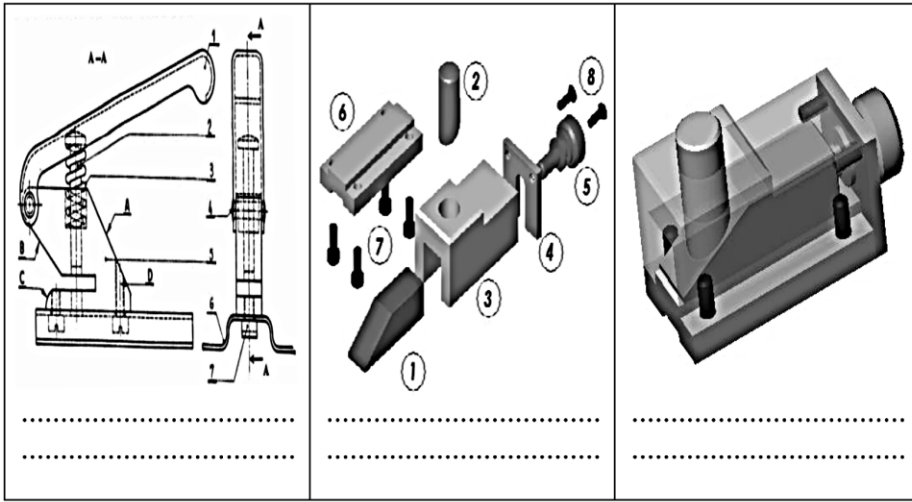




التعبير البياني

1 . أكتب تحت كل رسم أسفله نوع الرسم التقني الذي يناسبه :

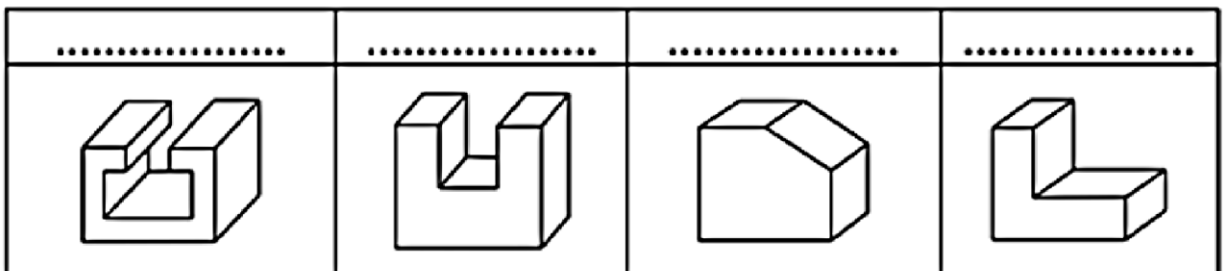


- رسم شامل
- رسم منظوري
- رسم مفكك

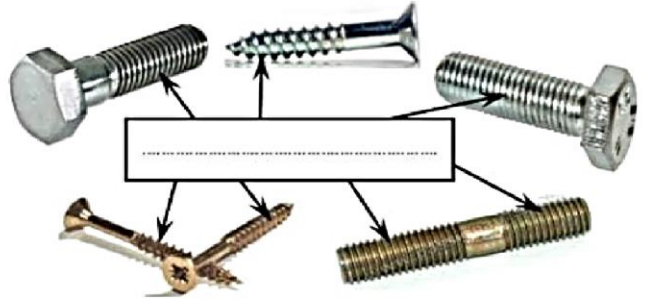
2 . أتعرف إلى أسماء التخديش للمواد بوضع العدد مناسب في خانة مناسب لكل مادة

التخديش				
2	4	5	1	3
المادة				
المواد البلاستيكية	الالومنيوم وخلاتنه	المواد الخشبية	النحاس و خلاتنه	المواد الحديدية : الفولاذ والزرهر
<input type="checkbox"/>	<input type="checkbox"/>	<input type="checkbox"/>	<input type="checkbox"/>	<input type="checkbox"/>

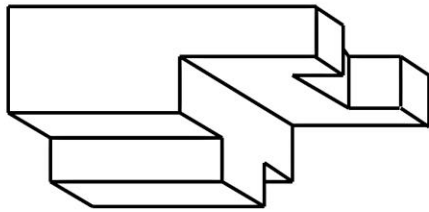
3 . أنكر أسماء التقنيات المنجزة على القطع التالية



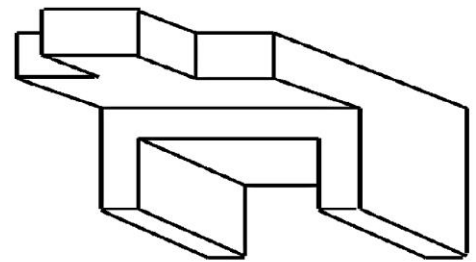
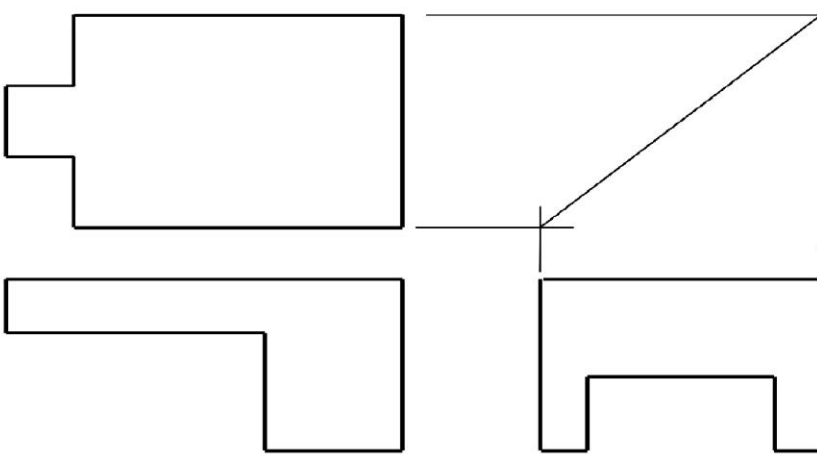
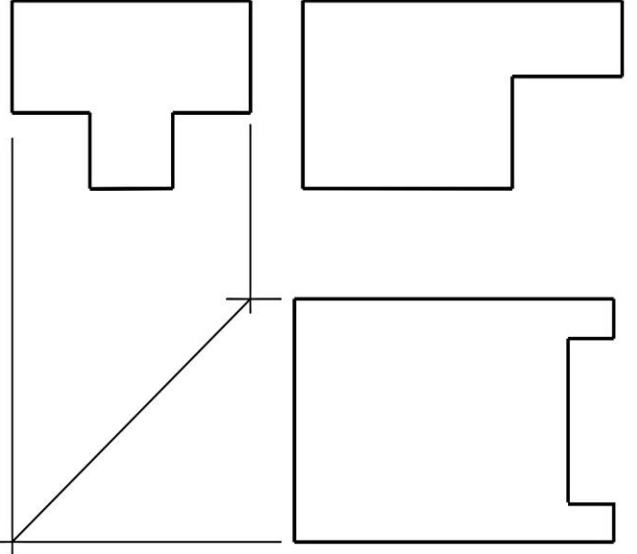
4. أتعرف من خلال الصورتين إلى نوع اللولب (دخلي أو خارجي)



5. أتم رسم المساقط بالاعتماد على الرسم المنظوري مدرجا بعض عناصر الترفيم على المسقط الرأسي فقط:



A الرسم المنظوري



B الرسم المنظوري

طرق المحافظة على البيئة و سلامة المحيط:

* من أشكال التلوث البيئي نذكر:



تلوث



تلوث



تلوث