

فرض تأليفي عـ 02 مد  
مادة العلوم الفيزيائية

المدرسة الإعدادية  
بزاوية الجديد

القسم : 7 أساسي .....  
المادة : العلوم الفيزيائية  
الأساتذة : مقداد التومي  
مريم بنكيس

التاريخ : .....  
المدة : 60 دق

رقم : .....

الاسم : .....  
اللقب : .....

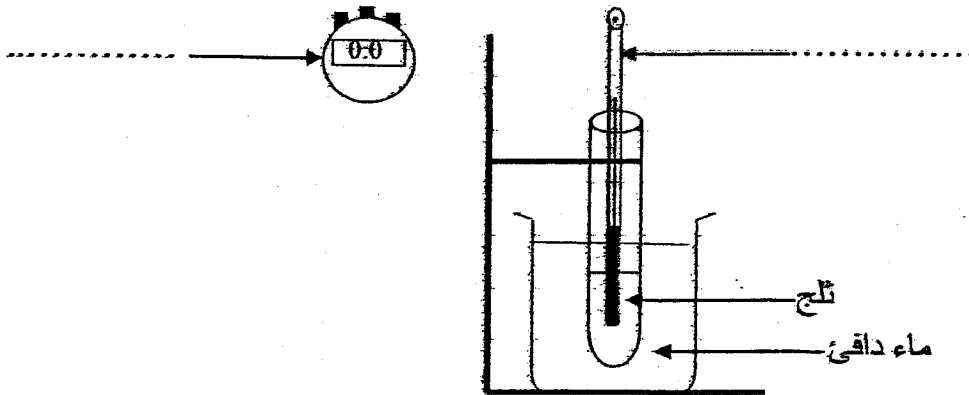
### تمرين عـ 01 مد (4 نقاط)

أكمل بما يناسب من العبارات التالية: دورة, خاص, يتكثف, تتجمد, يتبخر, السائلة, الغازية, الصلبة.

- ◀ تحتفظ الأرض بمخزونها المائي بفضل ..... الماء في الطبيعة. حيث ..... الماء  
السائل بمفعول أشعة الشمس و ارتفاع درجة الحرارة و يتصاعد في الجو على الحالة الفيزيائية .....  
على شكل بخار ماء ليكون السحب، كلما مر البخار بمنطقة باردة ..... في شكل قطيرات. في  
أعالي الجو تزيد البرودة و يمكن للقطيرات أن ..... قمطر السماء ثلج أو برد.  
◀ تتميز الأجسام ..... بحجم ثابت وشكل متغير و تتميز الأجسام ..... بحجم و شكل ثابتين  
في حين لا تتميز الأجسام الغازية بأي حجم أو شكل .....

### تمرين عـ 02 مد (9 نقاط)

أنجز مجموعة من التلاميذ التجربة التالية لإثبات إحدى التحولات الفيزيائية:



1) سمي على الرسم اللوازم المستعملة في هذه التجربة.

2) عرف التحول الفيزيائي

قام فريق التلاميذ بتسجيل درجة حرارة الماء في كل دقيقة، فتحصلوا على النتائج المبينة في الجدول التالي:

8	7	6	5	4	3	2	1	0	الزمن t(mm)
15	8	3	0	0	0	0	-2	-7	درجة الحرارة $\theta(^{\circ}\text{C})$

(3) أرسم على ورقة مليمترية الرسم البياني الذي يمثل تطور درجة الحرارة بدلالة الزمن.

بالاعتماد على الرسم البياني:

(4) استخرج درجة الحرارة عند انطلاق التجربة.....

(5) أنكر إن كانت درجة الحرارة في ازدياد أم في نقصان.....

(6) حدد درجة الحرارة التي يتم خلالها هذا التحول الفيزيائي.....

(7) تبيين زمن بداية هذا التحول الفيزيائي.....

(8) أحسب المدة الزمنية التي استغرقها هذا التحول الفيزيائي.....

(9) أكمل الجدول التالي بما يناسب من الحالات الفيزيائية.

7	4	1	الزمن t(mm)
.....	.....	.....	الحالة الفيزيائية

(10) أذكر اسم هذا التحول الفيزيائي وعرفه.....

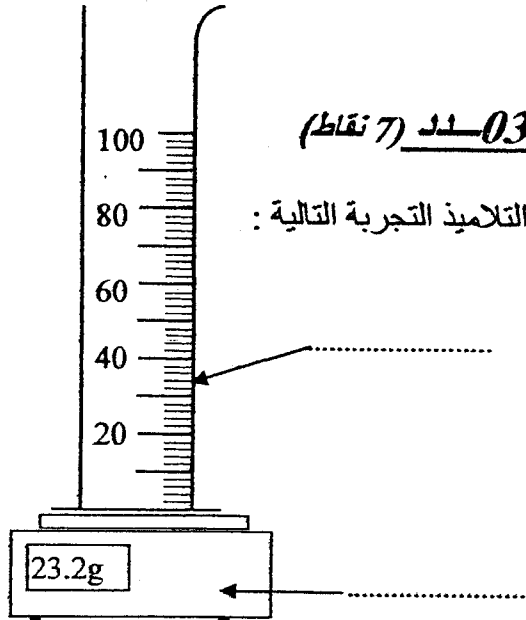

(11) تبيين من خلال الرسم البياني إن كان الماء نقي أم مالح. معلقا إجابتك.....

(12) أذكر كيف يتغير حجم و كتلة الماء أثناء هذا التحول الفيزيائي.....

(13) سمّي التحول الفيزيائي المعاكس.....

### تمرين 03 - (7 نقاط)

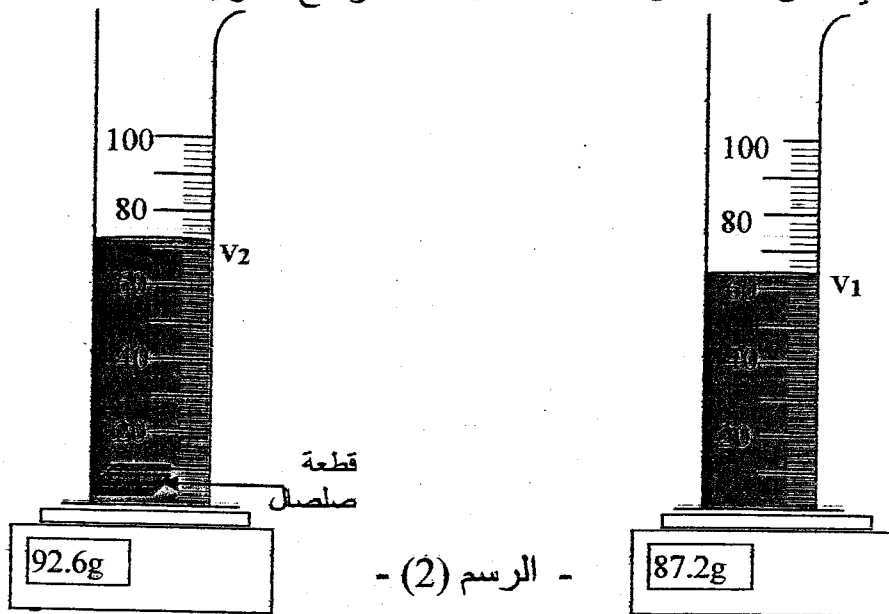
أنجز فريق من التلاميذ التجربة التالية :



- الرسم (1) -

- 0.5 1- أكمل بيانات الرسم (1) بذكر أسماء الأدوات المخبرية المستعملة في التجربة.
- 0.5 2- أذكر الحجم  $V$  للسائل .....
- 0.5 3- حدد الكتلة  $m_1$  للإناء فارغا .....
- 0.5 4- تبيين الكتلة  $m_2$  للإناء مع السائل .....
- 0.5 5- أحسب الكتلة  $m$  للسائل. (أكتب العلاقة التي تمكنت من قياس الكتلة  $m$  للسائل إنطلاقا من  $m_1$  و  $m_2$ ).
- 1 .....
- 0.5 6- تبيين الكتلة  $m'$  لواحد مليلتر (1mL) من السائل.
- 0.5 7- استنتج طبيعة هذا السائل (ماء مالح / زيت / ماء نقي) .....

II- غمر فريق التلاميذ داخل هذا السائل قطعة صلصال فلاحظ ارتفاع مستوى السائل كما هو مبين في الرسم (2)



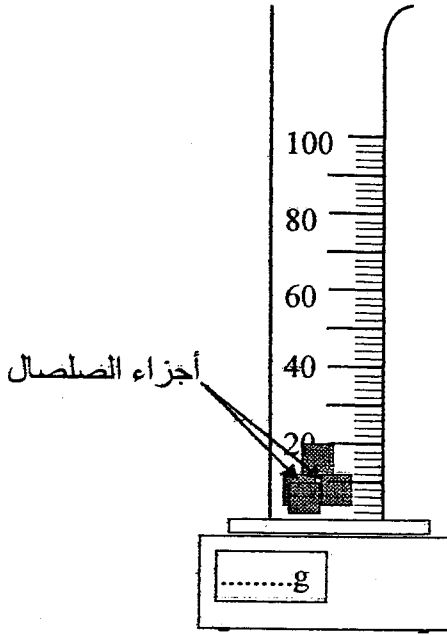
- الرسم (2) -

0.5 ..... 1- حدد الحجم  $v_2$  للسائل مع قطعة الصلصال

0.5 ..... 2- أكتب العلاقة التي يمكنك من قياس الحجم  $v$  لقطعة الصلصال إنطلاقاً من  $v_1$  و  $v_2$  .....

1 ..... 3- أحسب حجم قطعة الصلصال  $v$  بحساب الـ mL ثم بحساب  $\text{cm}^3$ .

4- أخرج فريق التلاميذ قطعة الصلصال و جزئها إلى قطع صغيرة و أعادها إلى نفس الإناء كما هو مبين في الرسم (3).



0.5 ..... أ- تبين هل يتغير حجم و كتلة قطعة الصلصال بعد تجزئتها.

.....  
.....

0.25 ..... ب- أرسم مستوى السائل داخل المخيار المدرج في الرسم (3).

0.25 ..... ج- أكتب على الشاشة القيمة العددية التي تشير إليها أداة القياس .

- الرسم (3) -