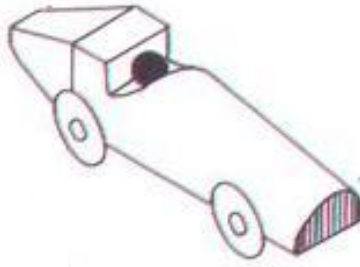


الإسم واللقب :	إختبار كتابي 3 تربية تكنولوجية	إعدادية حي البساتين القصرين مخبر التكنولوجيا	
القسم : الفوج : ع/ر		التاريخ:	مدة الإنجاز: 30 د
/20		الضارب: 1	7 أساسي :

1 - ما هو نوع الرسم الموالي ؟



رسم تعريفي	A
رسم منظوري	B
رسم شامل	C
رسم مفكك	D

2- عرّف الرسم المعني بالسؤال 1 .

1

2.5

رسم تعريفي	A
رسم منظوري	B
رسم شامل	C
رسم مفكك	D

3 - ما هو الرسم الذي يمكن من تقديم قطع المنتج مرتبة

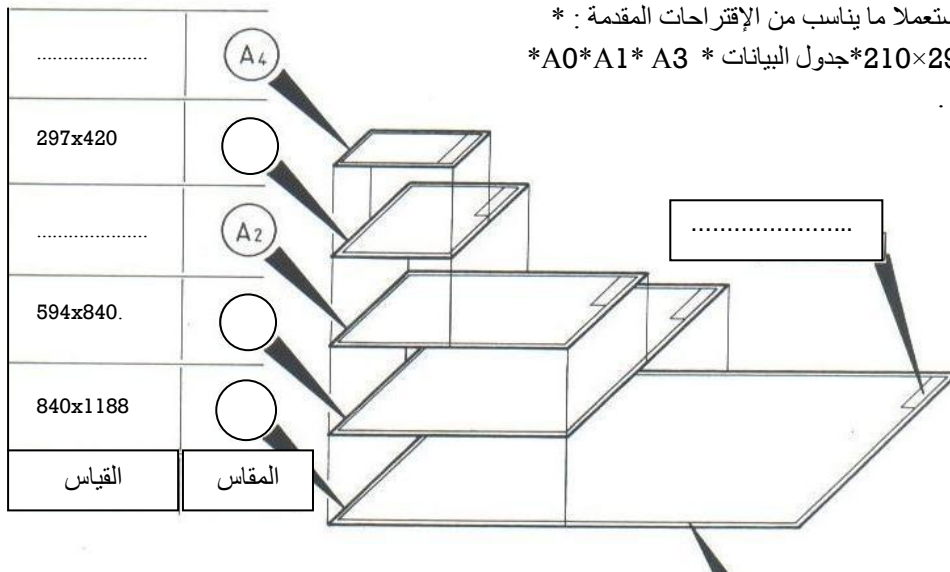
ومتباعدة يرسم ثلاثي الأبعاد بهدف إبراز كيفية إشتغاله وتركيب أجزائه؟

1

4- أكمل التالي مستعملا ما يناسب من الإقتراحات المقدمة :

*A0*A1*A3 *جدول البيانات *210×297*420×594

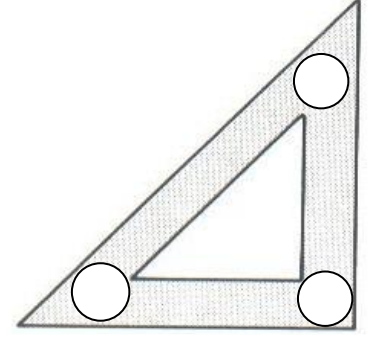
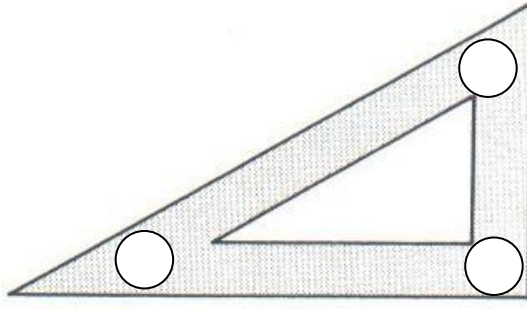
إطار وثيقة الرسم .



3.5

5- سجّل على الدوائر قيمة زوايا الكوسين .

3

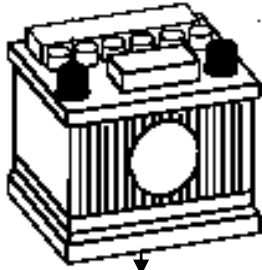


6- أكمل الفراغات بما يناسب من الإقتراحات المقدمة : * الحقيقي * الرسم * الحقيقية * $1/x * x/1$ * سلم * أصغر * أكبر .

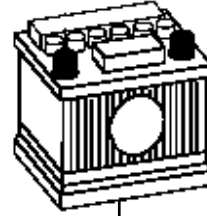
قياس الرسم من الرسم الحقيقي

قياس الرسم مساويا للرسم الحقيقي

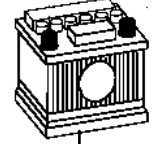
قياس الرسم من الرسم الحقيقي



سلم =



سلم = 1/1



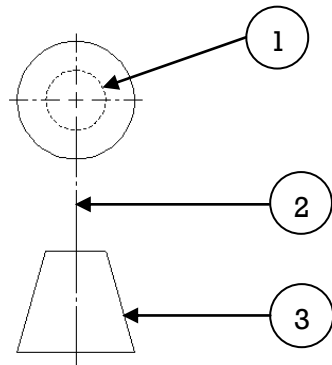
سلم =

6

السلم = $\frac{\text{قياس}}{\text{القياس للقطعة}}$

- تسجل على الرسم الأبعاد للقطعة مهما كان المعتمد لرسمها .

3



7- سمّ الخطوط المرقمة على الرسم الموالي

حسب نوعها وسمكها .

- خط 1
خط 2
خط 3