

توصيات : - وضوح الكتابة - يسمح باستعمال الآلة الحاسبة - قراءة السؤال جيدا -	تاريخ إنجاز الفرض : 25 أكتوبر 2010
---	------------------------------------

الاسم و اللقب : .....	القسم 9 \ الرقم : .....	العدد ..... 20 \
-----------------------	-------------------------	------------------

**تمرين عدد 1 : (9 نقاط)**

المنزلية :

8 ) أصيب شخص بصعقة كهربائية عند تنظيفه لأرضية المطبخ المبللة عند لمس هيكل الثلاجة المعدني :

أ) ما هو سبب هذا الخلل في الثلاجة ؟ .....

ب) كيف يمكننا تفادي هذا الخطر في الدارة الكهربائية المنزلية ؟ .....

( I ) ضع علامة ( ) أمام المقترح الصحيح :

- @ يستعمل العمود الجاف لتغذية دارة كهربائية مغلقة بتيار كهربائي متغير
- @ كل تيار ثابت في شدته و له اتجاهين مختلفين هو تيار متغير
- @ في دورة زمنية يصل التوتر الى قيمته القصوى أربعة مرات متتالية
- @ كل تيار متناوب جيبي هو تيار متغير

( II ) الكهرباء المنزلية هي تيار كهربائي متناوب جيبي له الخصائص التالية :  $N=50\text{Hz} / U=220\text{V} / I=10\text{A}$

1 ) أعط تعريفا للتيار المتناوب الجيبي ( ذكر خمس خصائص )

2 ) أكمل الفراغات في العبارات التالية :

الحرف اللاتيني N هو رمز ..... ووحدته Hz ال .....  
 220V هي قيمة ..... للتوتر في الكهرباء المنزلية  
 العلاقة بين  $U_m$  و  $U$  هي  $U_m =$  .....

3 ) ابحث عن قيمة الدورة T للكهرباء المنزلية ..... T=.....

4 ) عند لمس هيكل الثلاجة المعدني نحس بهزة كهربائية تصل الى الصعق أحيانا

أ) حدد أسباب الخلل في الثلاجة

.....

ب) أذكر الإجراءات العملية لتفادي الخطر :

.....  
.....

### تمرين عـ2ـ عدد : ( 11 نقطة )

الكهرباء المنزلية تمتاز بخصائص كالآتي :

$$I=10A \quad U=220V \quad N=50Hz$$

(1) حدد نوعية الكهرباء المنزلية

.....

(2) عرف التيار الكهربائي المتناوب :

.....

(3) عرف الدورة T : .....

(4) أحسب دورة التيار الكهربائي المنزلي T : T=.....

(5) أحسب القيمة القصوى للتوتر  $U_m$  :  $U_m=$  .....

(6) يخرج من العداد سلكان : سلك الطور و سلك المحايد

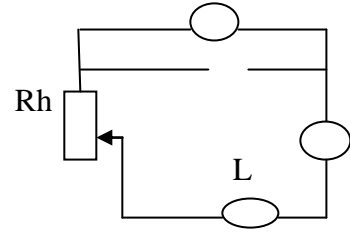
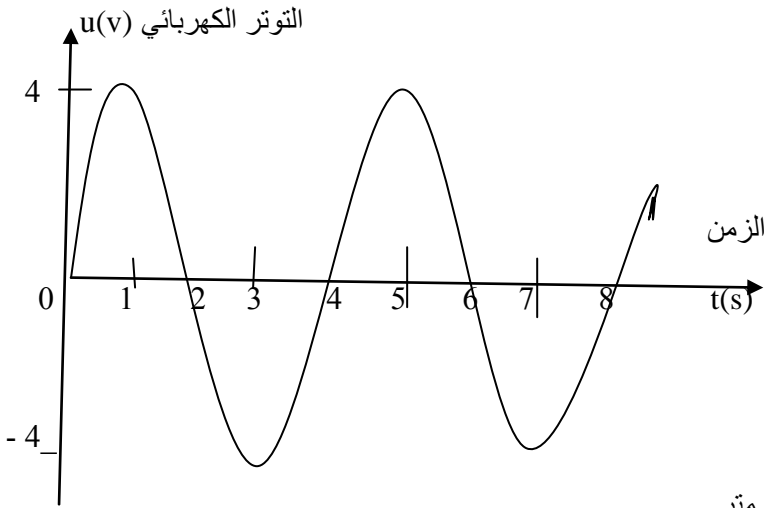
أ) حدد اللون الذي يميز كل سلك : سلك الطور لونه ..... و سلك المحايد لونه .....

ب) السلك الثالث يميزه الفنيون بلون و هو للحماية الأرضية : حدد اسمه و لونه

.....

(7) أذكر أنواع أخطار الكهرباء

تمرين عـ2ـ عدد : ( 11 نقطة )



الدارة الكهربائية تتركب من : مولد TBF – فولتметр – أمبيرمتر

الرسم البياني للتوتر بدلالة الزمن  $u=f(t)$  على شاشة المشواف

-معدلة ذات زلق -مصباح

(1) حدد نوعية التيار الكهربائي في الدارة و عرفه : .....

(2) أذكر دور الفولتметр في الدارة وحدد رمز و اسم التوتر الذي يقيسه : .....

(3) بين دور المعدلة في الدارة : .....

(4) عرف دورة التوتر : .....

(5) استنتج دورة التوتر T وحددها على الرسم البياني بسهم  $T=$ .....

(6) أحسب التردد N : .....

(7) أكمل الرموز في الدارة للأمبيرمتر و الفولتметр مع ذكر نوعية تركيبية كل منهما : .....

(8) أحسب القيمة القصوى للتوتر  $U_m$  :  $U_m=$ .....

(9) أحسب القيمة الفعالة للتوتر U  $U=$  .....

(10)

توصيات : - وضوح الكتابة - يسمح باستعمال الآلة الحاسبة - قراءة السؤال جيدا -	تاريخ انجاز الفرض : 25 أكتوبر 2010
---	------------------------------------

الاسم و اللقب : .....	القسم 9 \ الرقم : .....	العدد ..... \ 20
-----------------------	-------------------------	------------------

### تمرين ع1 دد : ( 8 نقاط)

(1) أجب ب " نعم " أو " خطأ "

- ❖ التيار المستمر ساكن في شدته و توتره و متغير في اتجاهه
- ❖ دورة التوتر المتناوب الجيبي T و تردده :  $N=3T$
- ❖ التردد هو عدد الترددات في الثانية الواحدة و وحدتها الثانية
- ❖ العلاقة بين التوتر الفعال و القيمة القصوى  $U=U_m 2$

(2) أربط بسهم الأسلاك بألوانها الاعتيادية في الكهرباء المنزلية

- سلك الطور الأزرق
- سلك التأريض الأحمر
- سلك المحايد أخضر وأصفر

(3) أكمل الفراغات بما يناسب من عبارات :

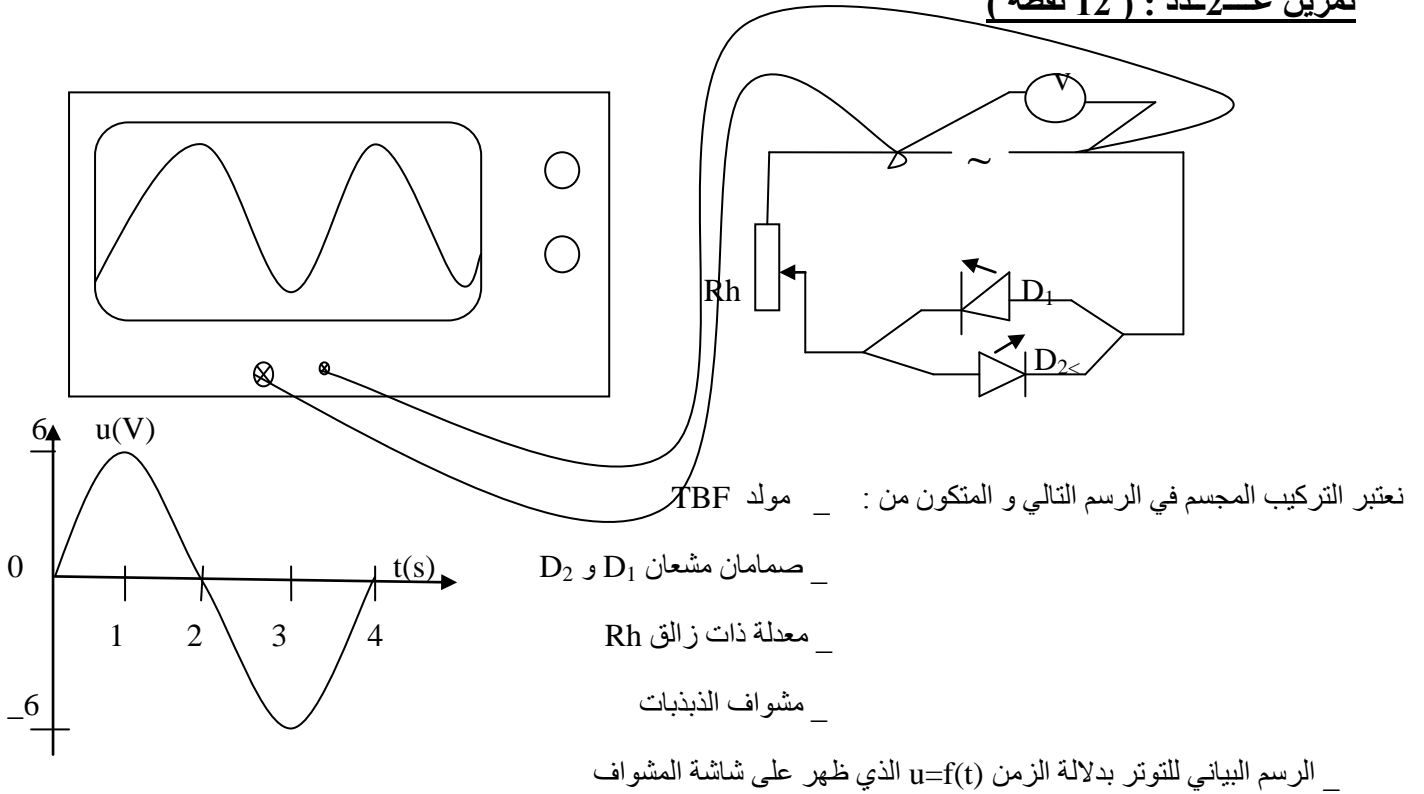
عند ربط قطبي ..... بالمشواف نلاحظ على شاشته رسما تذبذبا ل..... بدلالة الزمن . و لمعرفة قيمة التوتر القصوى نستعمل زر ..... و لحساب الدورة نستعمل زر ..... و نحسب التردد و رمزه ..... و وحدته .....

بالمعادلة التالية  $N=.....$

(4) عرف المفردات التالية :

- ✓ التردد : .....
- ✓ دورة التردد : .....

**تمرين 2- عدد : ( 12 نقطة )**



نعتبر التركيب المجسم في الرسم التالي و المتكون من : مولد TBF

صمامان مشعان  $D_1$  و  $D_2$

معدلة ذات زالق  $R_h$

مشواف الذبذبات

الرسم البياني للتوتر بدلالة الزمن  $u=f(t)$  الذي ظهر على شاشة المشواف

- 1) حدد نوعية التيار الكهربائي الذي يسري في الدارة و عرفه : .....
- 2) أذكر دور الفولتمتر في الدارة و حدد رمز و اسم التوتر الذي يقيسه : .....
- 3) بين دور المعدلة في الدارة : .....
- 4) عرف دورة التوتر : .....
- 5) استنتج دورة التوتر  $T$  و حدها على الرسم البياني بسهم  $T=$  .....
- 6) أحسب التردد  $N$  : .....
- 7) حسب الرسم البياني للتوتر حدد قيمة التوتر  $u$  في الزمن  $t=T/2$   $u=$  .....
- 8) غيرنا زر المسح و زر الحساسية في المشواف كالآتي : - زر المسح :  $1s$  لكل مربع  
- زر الحساسية :  $2V$  لكل مربع

أرسم الرسم البياني للتوتر بدلالة الزمن  $u=f(t)$  مع مراعات قيمة الزمن  $2T \geq t \geq 0$

الزمن	$t(s)$	التوتر	$u(V)$

**تمرين عـ2ـ عدد : ( 11 نقطة )**

الكهرباء المنزلية تمتاز بخصائص كالآتي :

$$I=10A \quad U=220V \quad N=50Hz$$

(1) حدد نوعية الكهرباء المنزلية

.....

(2) عرف التيار الكهربائي المتناوب :

.....

(3) عرف الدورة T :

(4) أحسب دورة التيار الكهربائي المنزلي T : T=.....

(5) أحسب القيمة القصوى للتوتر  $U_m$  :  $U_m=$  .....

(6) يخرج من العداد سلكان : سلك الطور و سلك المحايد

أ \ حدد اللون الذي يميز كل سلك : سلك الطور لونه ..... و سلك المحايد لونه .....

ب\ السلك الثالث يميزه الفنيون بلون و هو للحماية الأرضية : حدد اسمه و لونه

.....

(7) أذكر أنواع أخطار الكهرباء المنزلية :

.....

(8) أصيب شخص بصعقة كهربائية عند تنظيفه لأرضية المطبخ المبللة عند لمس هيكل الثلاجة المعدني :

أ\ ما هو سبب هذا الخلل في الثلاجة ؟

.....

.....

ب\ كيف يمكننا تفادي هذا الخطر في الدارة الكهربائية المنزلية ؟

.....

توصيات : - وضوح الكتابة - يسمح باستعمال الآلة الحاسبة - قراءة السؤال جيدا -	تاريخ انجاز الفرض : 25 أكتوبر 2010
---	------------------------------------

الاسم واللقب : .....	القسم 9 \ الرقم : .....	العدد ..... \ 20
----------------------	-------------------------	------------------

**تمرين عـ 1 دد : (9 نقاط)**

(1) أجب ب " نعم " أو " خطأ " و صحح الخطأ ان وجد :

❖ التيار الكهربائي المتغير دوري في اتجاهه و ثابت في شدته

❖ لحساب دورة التوتر N على شاشة المشواف نستعمل زر المسح

❖ التيار الكهربائي المستمر : دوري , متغير , يتناوب بين سالب و موجب

❖ العلاقة بين الدورة T و التردد N هي  $N = 3T$

(2) ضع العلامة ( X ) في الخانة المناسبة للإجابة الصحيحة :

❖ لقيس القيمة الفعالة للتوتر نستعمل :  الأمبيرمتر  الفولتمتر  شاشة المشواف

❖ لرسم الرسم البياني للتوتر  $u=f(t)$  نستعمل :  الأمبيرمتر  الفولتمتر  المشواف

❖ الرسم البياني لتوتر التيار المستمر بدلالة الزمن هو :  مستقيم  نقطة  منحي جيبي

(3) أكمل الفراغات بما يناسب من العبارات :

الكهرباء المنزلية تيار كهربائي ..... و لها توتر فعال .....  $U$  وتردد .....  $N=50$ . و عادة ما يستعمل الفنيون في تركيب الدارة أسلاك مميزة في اللون فمثلا : الأحمر يمثل عادة سلك ..... والأزرق يمثل سلك ..... أما اللون المزدوج أصفر و أخضر فهو يمثل سلك .....

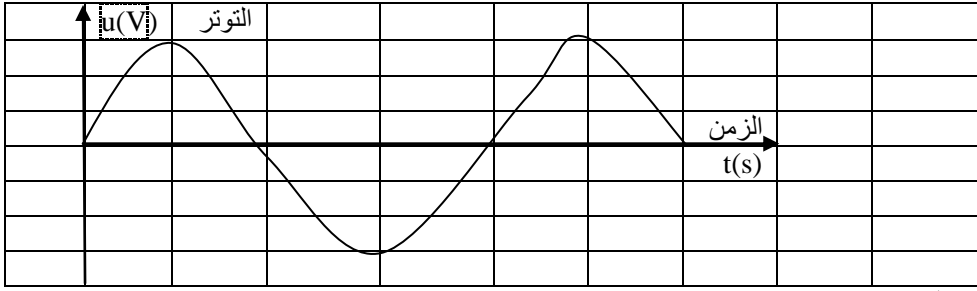
(4) عرف المفردات التالية :

❖ التردد : .....

❖ الرسم البياني  $u=f(t)$  : .....

**تمرين عـ 2 دد : (11 نقطة)**

قمنا بوصل قطبي مولد تيار كهربائي بمشوايف الذبذبات فتحصلنا على شاشته على الرسم البياني الآتي :



و كنا قد عدلنا أزراره على النحو التالي : - زر المسح : 2s لكل مربع

- زر الحساسية : 3V لكل مربع

1) حدد نوعية التيار الكهربائي التي يولدها المولد :

2) عرف التيار الكهربائي المتناوب ( ذكر أربعة خصائص ) :

3) بالاعتماد على الرسم البياني  $u=f(t)$

أ) أرسم بسهم على الرسم تحدد دورة التوتر

ب) عرف دورة التوتر T :

ج) أحسب دورة التوتر T :

د) استنتج التردد N :

4) بالاعتماد على الرسم البياني  $u=f(t)$

أ) أحسب قيمة التوتر القصوى  $U_m$  :

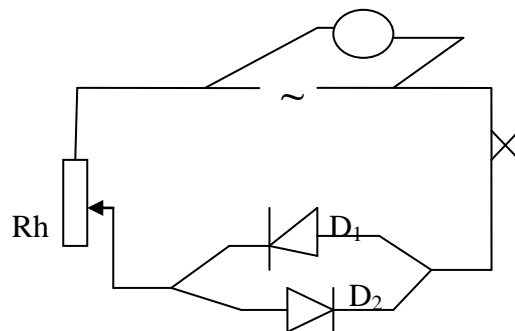
ب) استنتج القيمة الدنيا للتوتر :

ج) أحسب القيمة الفعالة للتوتر U :

5) قمنا بتركيب دارة كهربائية تتكون من : مولد و صمامان مشعان ومعدلة ذات زلق و قاطعة و فولتметр كالآتي :

أ) أذكر القيمة التي يقيسها الفولتметр :

ب) حدد الصمام الذي يضيء في الدارة :





توصيات : - وضوح الكتابة - الاجابة على ورقة الامتحان - قراءة السؤال جيدا - عدم اعادة السؤال و الاقتصار على الاجابة

تاريخ انجاز الفرض : 02 نوفمبر 2010

العدد ..... 20 \

القسم 7 ..... \ الرقم : .....

الاسم و اللقب : .....  
تمرين عدد 1 : (11 نقطة)

(1) أجب ب " نعم " أو " خطأ " :

❖ الأشياء نوعان : أشياء مادية و أشياء غير مادية

❖ الحالات الفيزيائية للماء أربعة حالات ممكنة

❖ مسحوق كبريتات النحاس يتغير لونه عند لمسه الماء

❖ الترسيب طريقة فصل مكونات مزيج متجانس

(2) أربط بسهم العبارات التالية بما يقابلها من مفاهيم :

\* لفصل مكونات مزيج متجانس

\* الترسيب

\* لفصل مكونات مزيج غير متجانس مكوناته كلها سوائل

\* الترشيح

\* لفصل مكونات مزيج غير متجانس مكوناته صلبة و سائلة

\* التقطير

(3) أكمل الفراغات بما يناسب من العبارات : صلبة ، سائلة ، ثلاث ، الأشياء ، الحواس الخمس ، أشياء مادية ، غازية ، أشياء غير مادية ،

يمكن أن نميز بين ..... في الطبيعة باستعمال ..... و هذه الأشياء نوعان : أشياء ملموسة و تسمى ..... و أشياء غير ملموسة و تسمى ..... و توجد هذه الأشياء في ..... حالات فيزيائية و هي حالة ..... و حالة ..... و حالة .....

## تمرين عـ 2 — عدد : (9 نقاط)

في كأس مزجنا ( ماء مالح , زيت , تراب , الرمل , الكحول )

- 1) حدد نوعية المزيج في الكأس : .....
- 2) أذكر السوائل في المزيج : .....
- 3) اقترح طريقة لفصل العناصر الصلبة عن العناصر السائلة في المزيج : .....
- 4) اقترح طريقة لفصل الزيت في المزيج : .....

5) أرسم محتوى الكأس وذلك حسب الألوان التالية : ( التراب و الرمل باللون الأحمر ) , ( الماء المالح والكحول باللون الأزرق ) ,

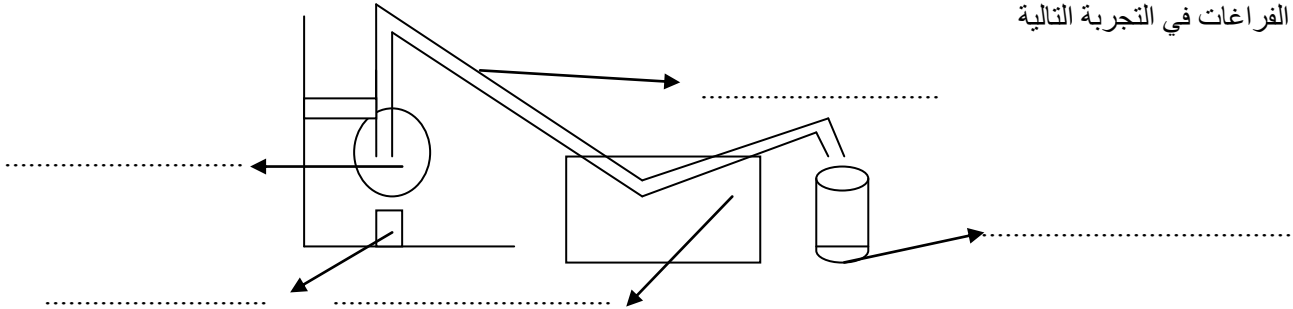
( الزيت باللون الأصفر )



6) بعد فصل الزيت من السوائل وضعنا بقية السوائل في كأس و سخناه في درجة حرارة معينة حتى تبخر كل الكحول و بقي الماء المالح

- أ) حدد نوعية المزيج : .....
- ب) اقترح طريقة لفصل مكونات المزيج : .....

ج \ أكمل الفراغات في التجربة التالية



عملية .....

د \ أذكر ثلاث مجالات نستعمل فيها طريقة الفصل بالتقطير :

- .....
- .....
- .....

توصيات : - وضوح الكتابة - الاجابة على ورقة الامتحان - قراءة السؤال جيدا - عدم اعادة السؤال و الاقتصار على الاجابة

تاريخ انجاز الفرض : 03 نوفمبر 2010

العدد ..... \ 20

القسم 7 ..... \ الرقم : .....

الاسم و اللقب : .....  
تمارين عدد 1 - عدد (11 نقطة)

(1) أجب ب " نعم " أو " خطأ " :

❖ الأشياء نوعان : أشياء مادية و أشياء غير مادية

❖ الحالات الفيزيائية للماء أربعة حالات ممكنة

❖ مسحوق كبريتات النحاس يتغير لونه عند لمسه الماء

❖ الترسيب طريقة فصل مكونات مزيج متجانس

(3) أربط بسهم العبارات التالية بما يقابلها من مفاهيم :

\* لفصل مكونات مزيج متجانس

\* الترسيب

\* لفصل مكونات مزيج غير متجانس مكوناته كلها سوائل

\* الترشيح

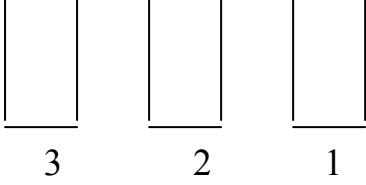
\* لفصل مكونات مزيج غير متجانس مكوناته صلبة و سائلة

\* التقطير

(3) أكمل الفراغات بما يناسب من العبارات : صلبة ، سائلة، ثلاث، الأشياء، الحواس الخمس، أشياء مادية، غازية، أشياء غير مادية ،

يمكن أن نميز بين ..... في الطبيعة باستعمال ..... و هذه الأشياء نوعان : أشياء ملموسة و تسمى ..... و أشياء غير ملموسة و تسمى ..... و توجد هذه الأشياء في ..... حالات فيزيائية و هي حالة ..... و حالة ..... و حالة .....

## تمرين عدد2: ( 9 نقاط )



في المخبر أعدنا ثلاثة أمزجة في كؤوس مرقمة من 1 الى 3

1) الكأس عدد1 : ماء + زيت + رمل + كحول

أ) حدد نوعية المزيج .....

ب) أرسم المزيج في الكأس عدد1 ( ماء وكحول (أزرق) رمل (أحمر) زيت (أصفر) )

ج) أذكر السوائل في المزيج .....

د) اقترح طريقة لفصل السوائل عن المزيج .....

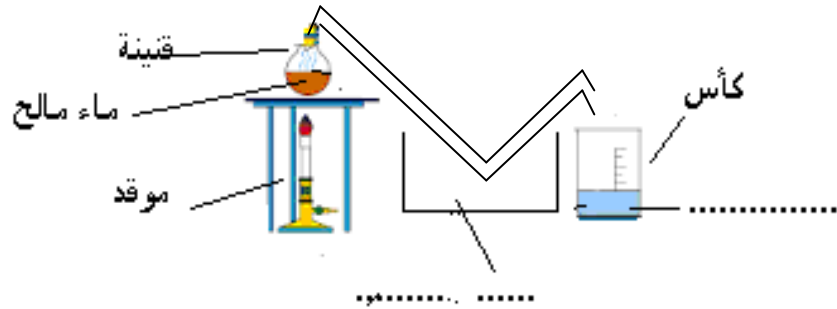
2) الكاس عدد2 : ماء مالح

أ) حدد نوعية المزيج .....

ب) اقترح عملية لفصل مكونات المزيج .....

ج) أكمل كتابة عناصر تجربة التقطير مكان الفراغات (مبرد – قطارة – تقطير )

عملية .....



3) الكأس عدد3 : ماء + بنزين

أ) حدد نوعية المزيج .....

ب) اقترح عملية فصل لمكونات المزيج .....

ج) أرسم المزيج في الكأس عدد 3 ( الماء بالأزرق – البنزين أخضر )

4) اقترح ثلاث مجالات تستعمل فيها عملية التقطير :