

التاريخ : ..... / 5 / 2011  
المدة : 30 دقيقة

اختبار كتابي 3 حدد  
المادة: التربية التكنولوجية

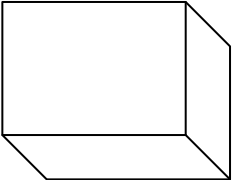
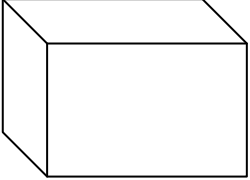
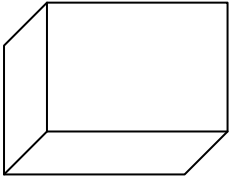
المدرسة الإعدادية دار فضال سكرة  
الأستاذة: معاد حمايدي

الاسم : ..... اللقب : ..... الرقم : ..... القسم : 7 أساسي .....

السؤال الأول: ضع علامة X في المكان المناسب :

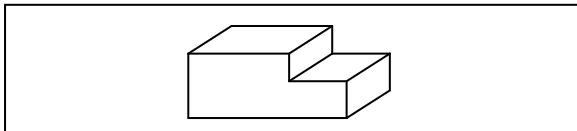
لا	نعم	
		عامل الإستهراب K هو عدد نضربه في الأبعاد الحقيقية للأضلاع للحصول على قياسات الخطوط المائلة في الرسم الثلاثي الأبعاد.
		سلم 1:3 هو سلم حقيقي.
		وحدة القياس الأساسية في الرسم التقني هي الصنتمتر .
		لإنجاز رسم ثلاثي الأبعاد لقطعة نبدأ برسم الوجه الجانبي.
		طول ورقة الرسم A4 يساوي 50صنتمتر.
		في الرسم الثلاثي الأبعاد ترسم الخطوط المائلة بأبعادها الحقيقية.
		يوجد 5 إتجاهات نظر ممكنة.
		ترسم الخطوط المائلة بطول أقل من طولها الحقيقي.

ب- أذكر تحت كل رسم اتجاه النظر و رمزه.

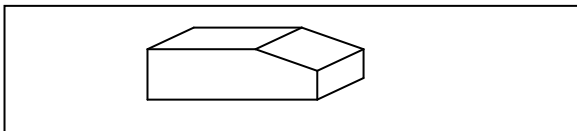
		
اتجاه النظر: ..... الرمز:	اتجاه النظر: ..... الرمز:	اتجاه النظر: ..... الرمز:

التمرين الثاني :

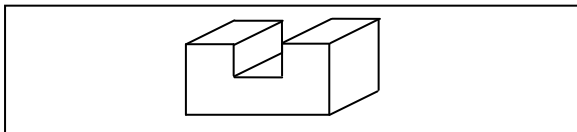
1) أربط بسهم العبارات والشكل المناسب؟



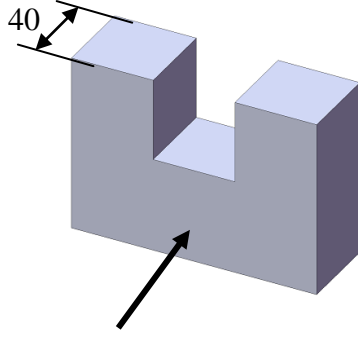
المجرى



الشطف



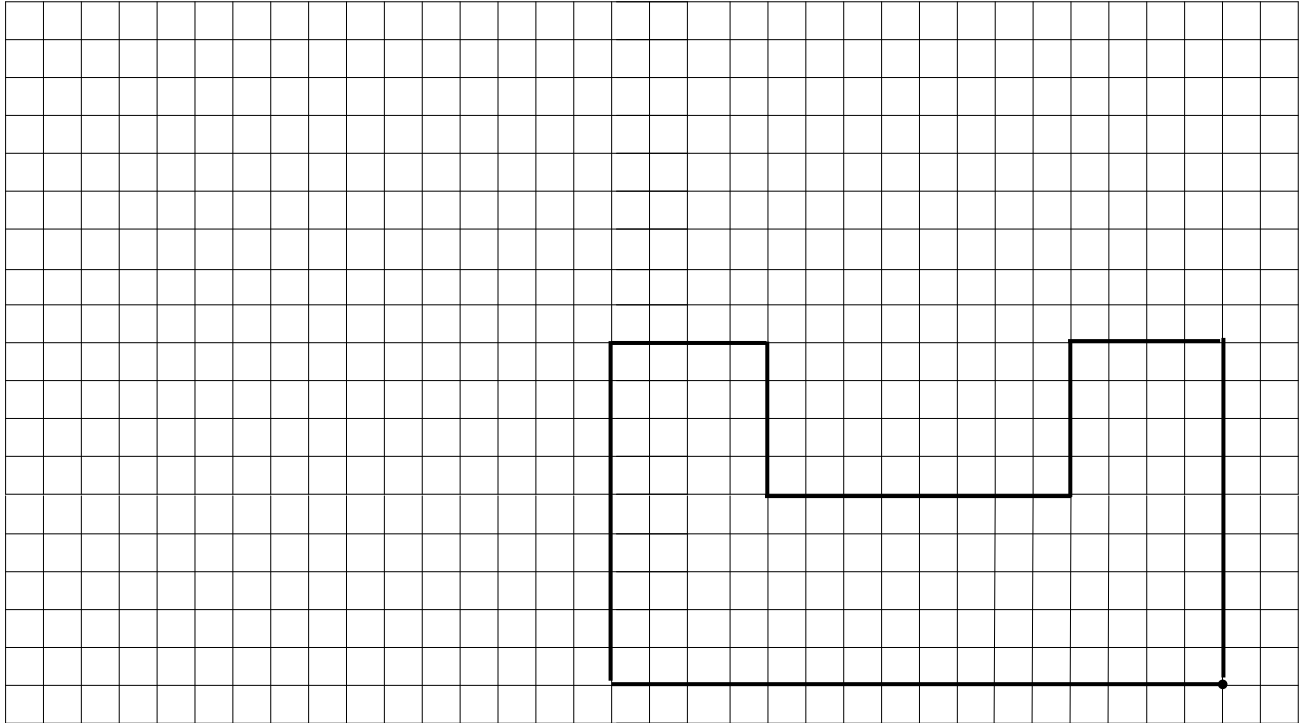
الحزّة



التمرين الثالث :  
لنعتبر القطعة الموشورية التالية :  
عامل الاستهراب  $K = 0.5$   
زاوية الاستهراب  $45^\circ = \alpha$   
اتجاه النظر :



/10



حظ سعيد