

التاريخ : 2011 / 5 /
المدة : 30 دقيقة

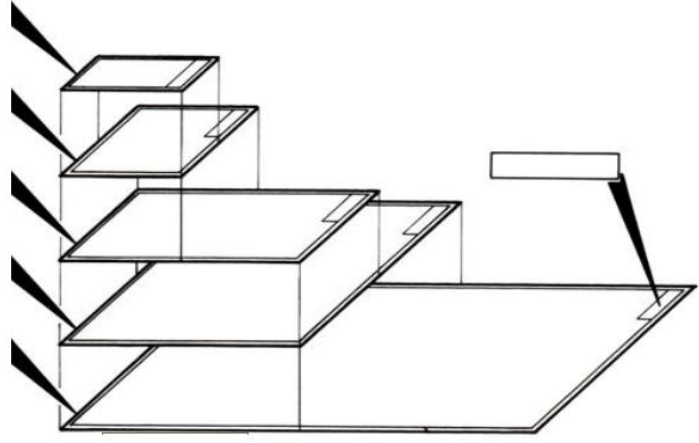
اختبار كتابي 3 حدد
المادة: التربية التكنولوجية

المدرسة الإعدادية دار فضال سكرة
الأستاذة: سعاد حمايدي

الاسم : اللقب : الرقم : القسم : 7 أساسي

السؤال الأول: لاحظ وثائق الرسم اكمل المطلوب بما يناسب :

A4
.....	420	297
.....	594	420
A1
.....	1188	840
وثيقة الرسم	الطول	العرض
	الأبعاد بالمليمتر	

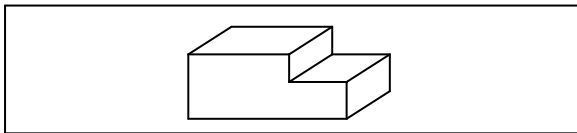


ب- أذكر تحت كل رسم اتجاه النظر و رمزه.

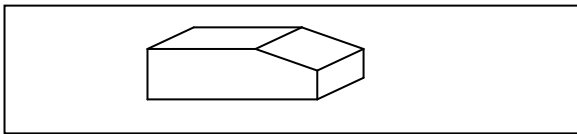
اتجاه النظر: الرمز:	اتجاه النظر: الرمز:	اتجاه النظر: الرمز:

التمرين الثاني :

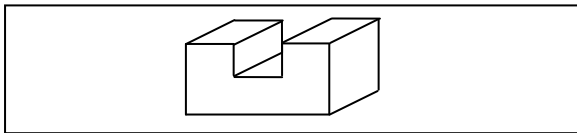
1) أربط بسهم العبارات والشكل المناسب؟



المجرى



الشطف



الحزّة

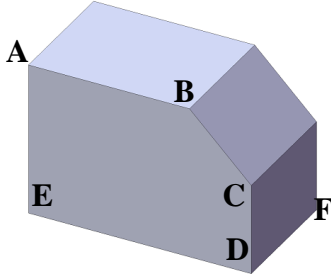
التمرين الثالث :

لنعتبر القطعة الموشورية التالية :
أنجز داخل الشبكة رسم ثلاثي الأبعاد لهذه القطعة حسب المعطيات التالية :
* الوجه الأمامي ABCDE

* زاوية الإستهراب 45°

* عامل الإستهراب $K=0.5$

* اتجاه النظر : اليمين العلوي




* مع العلم أن :

$$EA = 55 \text{ مم} \quad AB = 55 \text{ مم}$$

$$ED = 80 \text{ مم} \quad DC = 30 \text{ مم}$$

$$DF = 60 \text{ مم}$$

* شطف $25 \times 45^\circ$



حظ سعيد

