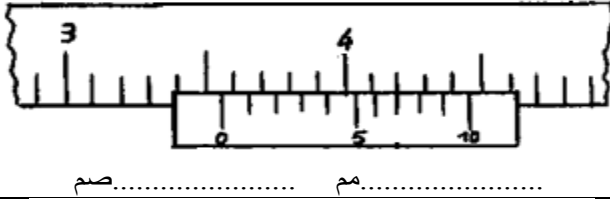


الاسم:..... اللقب:..... الرقم:.....القسم:7 أ.....	اختبار كتابي في مادة التربية التكنولوجية التوقيت: 30 دقيقة أفريل 2012	المدرسة الإعدادية محمود المسعدي سببية
العدد: 20/.....		الإعداد: اساتذة التربية التكنولوجية

**** الجزء الأول " استعمال القدم الزالقي " :**

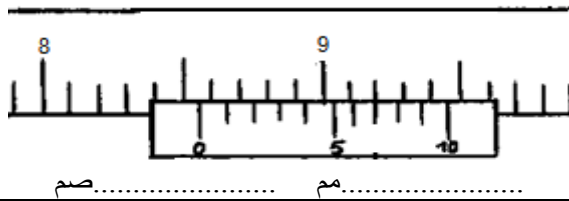
03



..... مم صم

- 1- لون المسطرة فقط بقلم تلوين.
- 2- إستخرج البعد المناسب في الوضعية التالية مستعملا وحدتان (مم/صم)

03

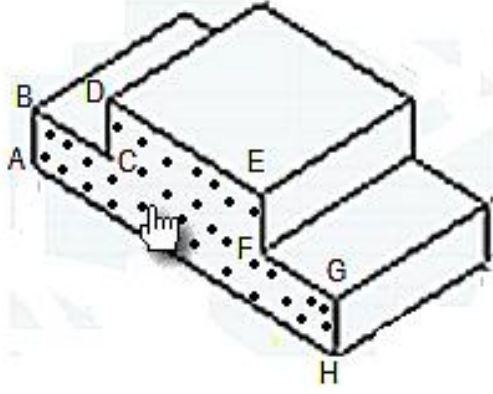


..... مم صم

- 1- لون المسطرة فقط بقلم تلوين.
- 2- إستخرج البعد المناسب في الوضعية التالية مستعملا وحدتان (مم/صم)

02

02



الرسم المنظوري

الجزء الثاني: رسم ثلاثي الابعاد لـ " منصّة الفانزين " :

- 1- لون الوجه العلوي على الرسم المنظوري.
- 2- ماهو إتجاه النظر المستعمل في هذا الرسم؟

- 3- أعد إنجاز رسم ثلاثي الابعاد على الشبكة حسب المعطيات التالية:

* وجه أمامي ABCDEFGH

* يساري علوي (↖)

* 45°

* K= 0.5

* السلم 1:1

ملاحظة: ** لقد وقع إنجاز جزء من الوجه الامامي. ** طول الخطوط المائلة يساوي 20 مم (4 مربعات)

04

04

نظافة

الرسم

و

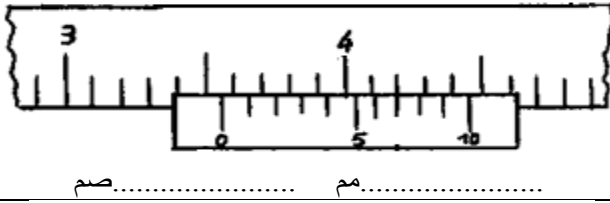
الورقة

02

الاسم:..... اللقب:..... الرقم:.....القسم:7 أ.....	اختبار كتابي في مادة التربية التكنولوجية التوقيت:30 دقيقة أفريل 2012	المدرسة الإعدادية محمود المسعدي سببية الإعداد: اساتذة التربية التكنولوجية
العدد: 20/.....		

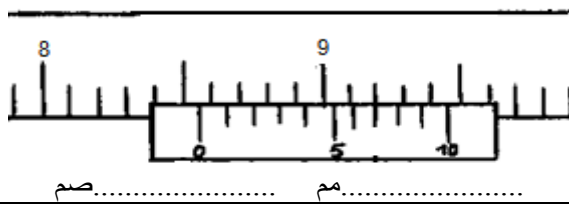
**** الجزء الأول " استعمال القدم الزالقي " :**

03



- 3- لون المسطرة فقط بقلم تلوين.
 4- إستخرج البعد المناسب في الوضعية التالية مستعملا وحدتان (مم/صم)

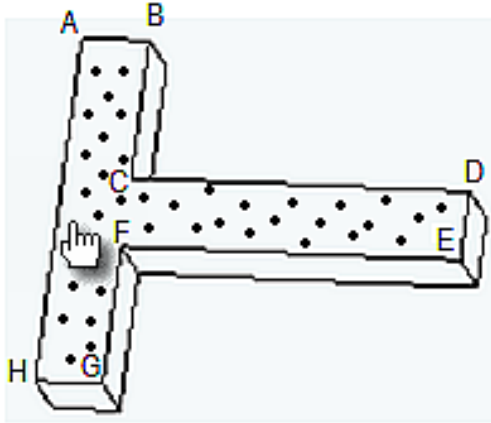
03



- 3- لون المسطرة فقط بقلم تلوين.
 4- إستخرج البعد المناسب في الوضعية التالية مستعملا وحدتان (مم/صم)

02

02



الرسم المنظوري

- الجزء الثاني: رسم ثلاثي الابعاد لمسطرة :
 1- لون الوجه اليميني على الرسم المنظوري.
 2- ماهو إتجاه النظر المستعمل في هذا الرسم؟

- 3- أعد إنجاز رسم ثلاثي الابعاد على الشبكة حسب المعطيات التالية:

* وجه أمامي ABCDEFGH

* يساري علوي (↖)

* 45°


* K= 0.5

* السلم 1:1

ملاحظة: ** لقد تم إنجاز جزء من الوجه الامامي. ** طول الخطوط المائلة يساوي 20مم (4 مربعات)

04

04



نظافة

الرسم

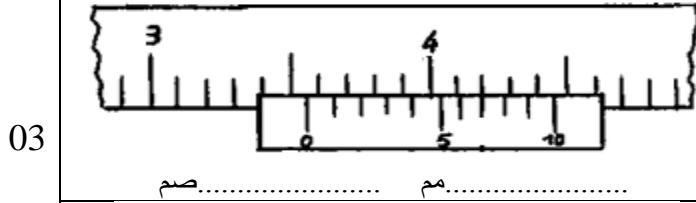
و

الورقة

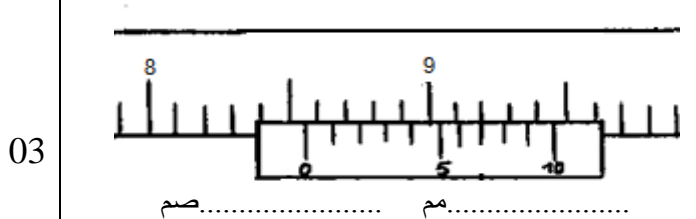
02

الاسم:..... اللقب:..... الرقم:.....القسم:7 أ.....	اختبار كتابي في مادة التربية التكنولوجية التوقيت: 30 دقيقة أبريل 2012	المدرسة الإعدادية محمود المسعدي سببية
العدد: 20/.....		الإعداد: اساتذة التربية التكنولوجية

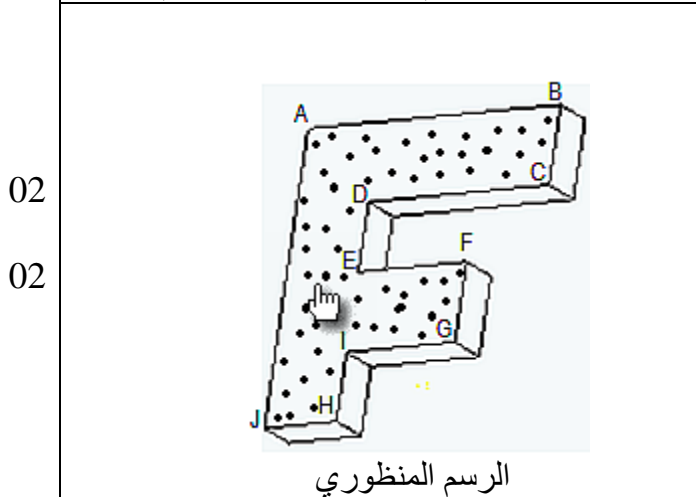
**** الجزء الأول " استعمال القدم الزالق " :**



- 5 - لون المسطرة فقط بقلم تلوين.
 6 - إستخرج البعد المناسب في الوضعية التالية مستعملا وحدتان (مم/صم)



- 5 - لون المسطرة فقط بقلم تلوين.
 6 - إستخرج البعد المناسب في الوضعية التالية مستعملا وحدتان (مم/صم)



الجزء الثاني: رسم ثلاثي الابعاد لقطعة مصنعة :

- 1- لون الوجه اليميني على الرسم المنظوري.
 2- ماهو إتجاه النظر المستعمل في هذا الرسم؟

- 3- أعد إنجاز رسم ثلاثي الابعاد على الشبكة حسب المعطيات التالية:

* وجه أمامي ABCDEFGHIJ


* يساري علوي (↖)

* 45°

* K= 0.5

* السلم 1:1

ملاحظة: ** لقد وقع إنجاز جزء من الوجه الامامي. ** طول الخطوط المائلة يساوي 20 مم (4 مربعات)



Le pied à coulisse

