


الاسم:..... اللقب:..... القسم:.....العدد الرتبي:.....	فرض تألوفي عدد 01 المادة: تربية تكنولوجية	المدرسة الإعدادية 20 مارس المرناقية الأستاذ : ماهر السكوحى
التاريخ:.....	المدة : 60 دقيقة	المستوى : 7 أساسي
العدد : 20 /		



مقص عشب كهربائي

أ- أذكر عدد مراحل دورة حياة مقص العشب الكهربائي؟ (0.5 ن)

ب- إليك بعض المراحل من دورة حياة مقص العشب الكهربائي.

السؤال: أربط النشاط برمزه المناسب: (2 ن)

A2

تحليل الحاجة

A1

المصادقة عليه

A9

الاستعمال

A7

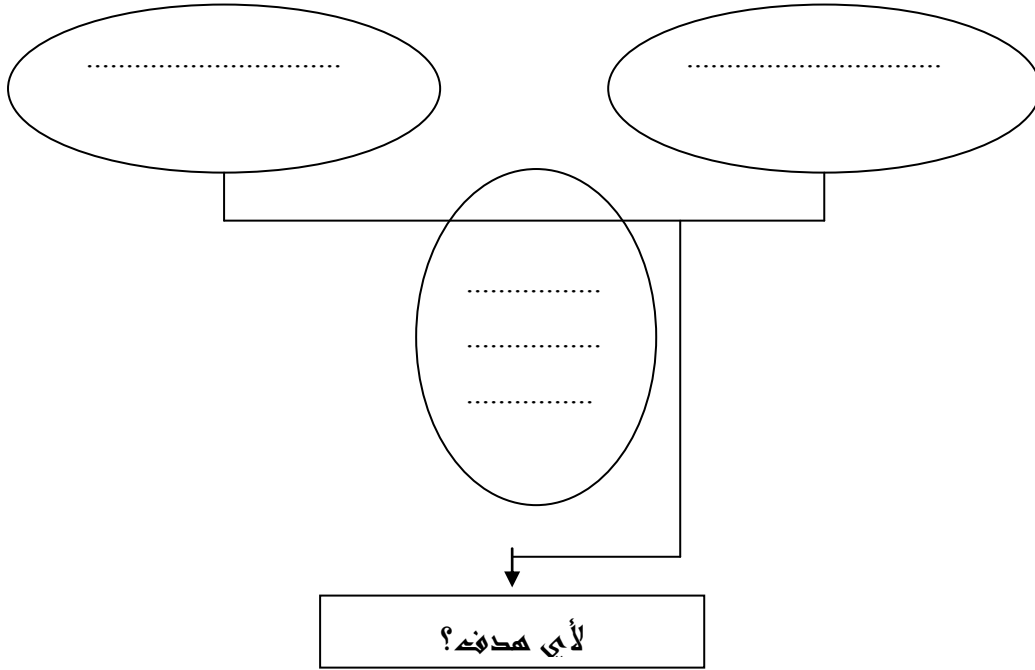
الإنتاج

2- أ/ للتعبير عن الحاجة أستعين بأداة (0.5 ن)

ب- أعبّر عن الحاجة إلى مقص عشب كهربائي: (2 ن)

على ماذا تؤثر؟

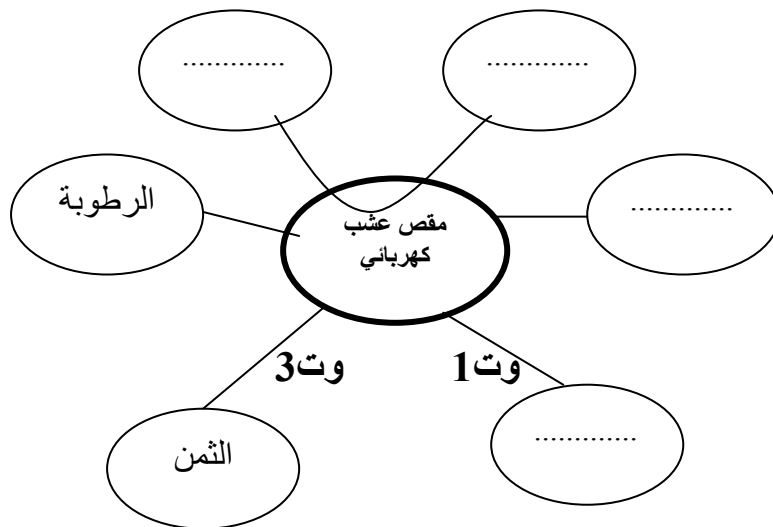
لمن تقدم الخدمة؟



3- نقترح عليك بعض العناصر التي لها علاقة بمقص عشب كهربائي:

المستعمل- العين- التيار الكهربائي- العشب- الثمن - الرطوبة.


3-1- أكمل أداة التعبير الوظيفي: (2 ن)



3-2- أتمم صياغة الهدف المنشود لكل علاقة. (4 ن)

الوظيفة	الهدف
ور	يمكن.....من قطع.....
وت1	يكون مقص العشب الكهربائي جذابا.
وت2	يشتغل.....بالتيار الكهربائي.
وت3
وت4

4- أذكر المادة التي استعملت في صنع المشحذة: (2 ن)

.....	1 - علبه المحرك	 <p>3 - مشحذة</p>
.....	2 - علبه الربط	
.....	3 - غطاء الوقاية	
.....	4 - مقبض	

5- أتمم تعميم الجدول التالي بذكر لون المادة و تفاعلها مع المغناطيس: (2 ن)

المواد	لون المادة	التفاعل مع المغناطيس
النحاس
الفولاذ
الزهر
الألومنيوم

7- ضع علامة (X) في الخانة المناسبة: (3 ن)

عنصر إخراج معلومة

عنصر إدخال معلومة

العنصر

الطابعة

الشاشة

الفأرة

لوحة المفاتيح

الميكروفون

الماسح الضوئي