

الحصر – المجالات – القيمة المطلقة

I – الحصر :

1. تعريف :

حصر عدد حقيقي x يعني إيجاد عددين a و b بحيث : $a \leq x \leq b$ ومدى هذا الحصر هو : $b - a$

مثال : أوجد حصر العدد $\sqrt{5}$ مداه 10^{-2} ؟

نعلم أن $\sqrt{5} = 2,23607..$ إذن $2,23 \leq \sqrt{5} \leq 2,24$ ومدى هذا الحصر هو : $2,24 - 2,23 = 0,01 = 10^{-2}$

2- حصر مجموع أو جداء :

لحصر مجموع أو جداء نستعمل قواعد الجمع أو الضرب طرفا بطرف

مثال : $3 \leq x \leq 8$ و $1 \leq y \leq 7$ و $-2 \leq z \leq -1$ أعط حصر $x + y$ و xy و yz ؟

$$1 \times 3 \leq xy \leq 7 \times 8 \Leftrightarrow 3 \leq xy \leq 56 \quad \text{و} \quad 1 + 3 \leq x + y \leq 7 + 8 \Leftrightarrow 4 \leq x + y \leq 15$$

$$\text{لدينا: } 1 \leq -z \leq 2 \Leftrightarrow 1 \times 1 \leq -yz \leq 2 \times 7 \Leftrightarrow 1 \leq -yz \leq 14 \Leftrightarrow -14 \leq yz \leq -1$$

3- حصر فرق و حاصل قسمة :

حصر فرق يعني إضافة المقابل أما حصر حاصل قسمة فإنه يعني ضرب في المقلوب مع مراعاة اتجاه الحصر

مثال : $3 \leq x \leq 8$ و $1 \leq y \leq 7$ أعط حصر $x - y$ و $\frac{x}{y}$ ؟

$$-7 \leq -y \leq -1 \Leftrightarrow 3 + (-7) \leq x + (-y) \leq 8 + (-1) \Leftrightarrow -4 \leq x - y \leq 7$$

$$\frac{1}{7} \leq \frac{1}{y} \leq 1 \Leftrightarrow 3 \times \frac{1}{7} \leq x \times \frac{1}{y} \leq 8 \times 1 \Leftrightarrow \frac{3}{7} \leq \frac{x}{y} \leq 8$$

II - المجالات :

1 – تعريف :

a و b عدنان حقيقيان حيث : $a \leq b$

نسمي مجالا مغلقا طرفاه a و b مجموعة الأعداد الحقيقية x بحيث : $a \leq x \leq b$ و نرمز إليه بالرمز $[a;b]$. بطريقة مبسطة نسمي مجالا مجموعة الأعداد الحقيقية المحددة بحصر.

2- تمثيل مجال :



يمثل المجال على مستقيم مدرج بواسطة نقطتين A و B فاصلتهما على التوالي a و b .

3- أنواع المجالات :

الحصر – المجالات – القيمة المطلقة

أ- المجالات المحدودة : نعتبر a و b عددين حقيقيين بحيث : $a \leq b$

تسمية المجال	التمثيل على مستقيم مدرج	مجموعة الأعداد الحقيقية x	المجال الذي يرمز إليه
المجال المغلق طرفاه a و b		$a \leq x \leq b$	$[a;b]$
المجال المفتوح طرفاه a و b		$a < x < b$	$]a;b[$
المجال نصف مغلق على اليمين أو نصف مفتوح على اليسار طرفاه a و b		$a < x \leq b$	$]a;b]$
المجال نصف مفتوح على اليمين أو نصف مغلق على اليسار طرفاه a و b		$a \leq x < b$	$[a;b[$

ب- المجالات غير المحدودة : نعتبر a و b عددين حقيقيين

تسمية المجال	التمثيل على مستقيم مدرج	مجموعة الأعداد الحقيقية x	المجال الذي يرمز إليه
مجال مغلق غير محدود على اليمين طرفه a		$x \geq a$	$[a;+\infty[$
مجال مفتوح غير محدود على اليمين طرفه a		$x > a$	$]a;+\infty[$
مجال مغلق غير محدود على اليسار طرفه b		$x \leq b$	$]-\infty;b]$
مجال مفتوح غير محدود على اليسار طرفه b		$x < b$	$]-\infty;b[$

ج- المجالات و القيمة المطلقة :

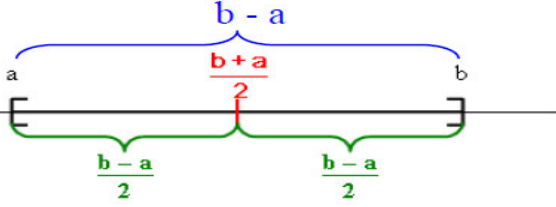
نعتبر x عدد حقيقي و a عددا حقيقيا موجبا .

- ◆ إذا كان العدد x يحقق ، $|x| \leq a$ يعني $x \in [-a;a]$. (مجال مغلق طرفاه $-a$ و a)
- ◆ إذا كان العدد x يحقق ، $|x| < a$ يعني $x \in]-a;a[$. (مجال مفتوح طرفاه $-a$ و a)
- ◆ إذا كان العدد x يحقق ، $|x| \geq a$ يعني $x \in]-\infty;-a] \cup [a;+\infty[$. (اتحاد مجالين غير محدودان مغلقان)
- ◆ إذا كان العدد x يحقق ، $|x| > a$ يعني $x \in]-\infty;-a[\cup]a;+\infty[$. (اتحاد مجالين غير محدودان مفتوحان)

الحصر – المجالات – القيمة المطلقة

4- عناصر المجال :

يتميز المجال $[a;b]$ بالعناصر الأتية :

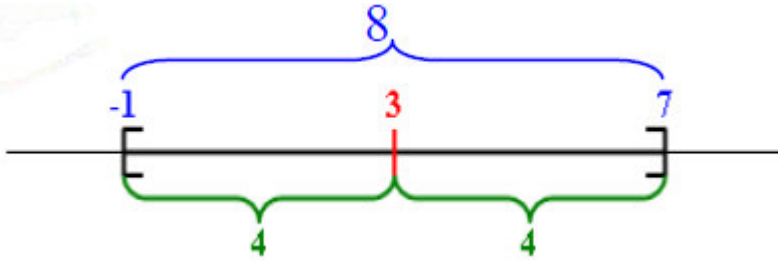


★ **مركزه** : و هو العدد الحقيقي : $c = \frac{b+a}{2}$

★ **طوله** : و هو العدد الحقيقي الموجب : $b - a$

★ **نصف قطره** : و هو العدد الحقيقي الموجب : $r = \frac{b-a}{2}$

مثال : أوجد مركز و طول و نصف قطر المجال $[-1;7]$



■ **مركزه** هو : $c = \frac{7+(-1)}{2} = \frac{6}{2} = 3$

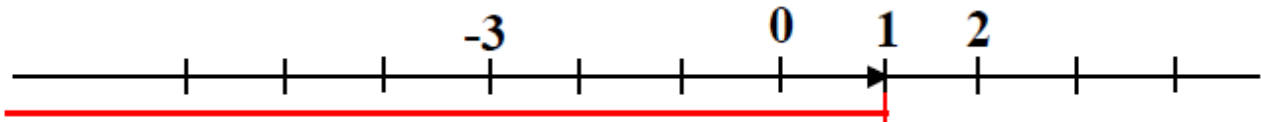
■ **طوله** هو : $7 - (-1) = 7 + 1 = 8$

■ **نصف قطره** هو : $r = \frac{7 - (-1)}{2} = \frac{7+1}{2} = \frac{8}{2} = 4$

5- تقاطع و اتحاد مجالين :

■ **تقاطع مجالين** I و J هو مجموعة الأعداد الحقيقية التي تنتمي إلى I و J و نرسم إليه بـ : $I \cap J$.

■ **اتحاد مجالين** I و J هو مجموعة الأعداد الحقيقية التي تنتمي إلى I أو J و نرسم إليه بـ : $I \cup J$.



مثال : ليكن $I =]-3;2]$ و $J =]-\infty;1]$ أوجد $I \cap J$ و $I \cup J$.

الحل :

$$I \cup J =]-\infty;2] \quad \text{و} \quad I \cap J =]-3;1]$$

الحصر – المجالات – القيمة المطلقة

تطبيق 1 صفحة 99 :

$$x \in \left[\frac{3}{5}; \frac{2}{3} \right] \Leftrightarrow \frac{3}{5} \leq x \leq \frac{2}{3} \Leftrightarrow 15 \times \frac{3}{5} \leq 15x \leq 15 \times \frac{2}{3} \Leftrightarrow \frac{45}{5} \leq 15x \leq \frac{30}{5} \Leftrightarrow 9 \leq 15x \leq 10 \quad \text{أ-}$$

إذن : $15x \in [9;10]$

$$\frac{3}{5} \leq x \leq \frac{2}{3} \Leftrightarrow \frac{3}{5} - \frac{1}{2} \leq x - \frac{1}{2} \leq \frac{2}{3} - \frac{1}{2} \Leftrightarrow \frac{6}{10} - \frac{5}{10} \leq x - \frac{1}{2} \leq \frac{4}{6} - \frac{3}{6} \Leftrightarrow \frac{1}{10} \leq x - \frac{1}{2} \leq \frac{1}{6} \quad \text{ب-}$$

إذن : $x - \frac{1}{2} \in \left[\frac{1}{10}; \frac{1}{6} \right]$

تطبيق 2 صفحة 99 :

$$x \in \left[-\frac{7}{5}; -\frac{4}{3} \right] \Leftrightarrow -\frac{7}{5} \leq x \leq -\frac{4}{3} \Leftrightarrow 3 \times -\frac{7}{5} \leq 3x \leq 3 \times -\frac{4}{3} \Leftrightarrow -\frac{21}{5} \leq 3x \leq -4 \quad \text{أ-}$$

إذن : $3x \in \left[-\frac{21}{5}; -4 \right]$

$$-\frac{21}{5} \leq 3x \leq -4 \Leftrightarrow -\frac{21}{4} + \frac{2}{5} \leq 3x + \frac{2}{5} \leq -4 + \frac{2}{5} \Leftrightarrow -\frac{84}{20} + \frac{8}{20} \leq 3x + \frac{2}{5} \leq -\frac{20}{5} + \frac{2}{5} \Leftrightarrow -\frac{76}{20} \leq 3x + \frac{2}{5} \leq -\frac{18}{5} \quad \text{ب-}$$

$$\Leftrightarrow -\frac{19}{5} \leq 3x + \frac{2}{5} \leq -\frac{18}{5}$$

يعني $3x + \frac{2}{5} \in \left[-\frac{19}{5}; -\frac{18}{5} \right]$

تطبيق 3 صفحة 99 :

$$-\frac{\sqrt{2}}{3} \leq x \leq \frac{\sqrt{2}}{3} \quad \text{يعني } |x| \leq \frac{\sqrt{2}}{3} \quad \text{أ-}$$

$$-\frac{3\sqrt{2}}{2} \leq y \leq \frac{3\sqrt{2}}{2} \quad \text{يعني } |y| \leq \frac{3\sqrt{2}}{2}$$

ب- لدينا : $|x| \leq \frac{\sqrt{2}}{3}$ و $|y| > 0$ يعني $|x| \times |y| \leq \frac{\sqrt{2}}{3} |y|$ وبالتالي $|xy| \leq \frac{\sqrt{2}}{3} |y|$.

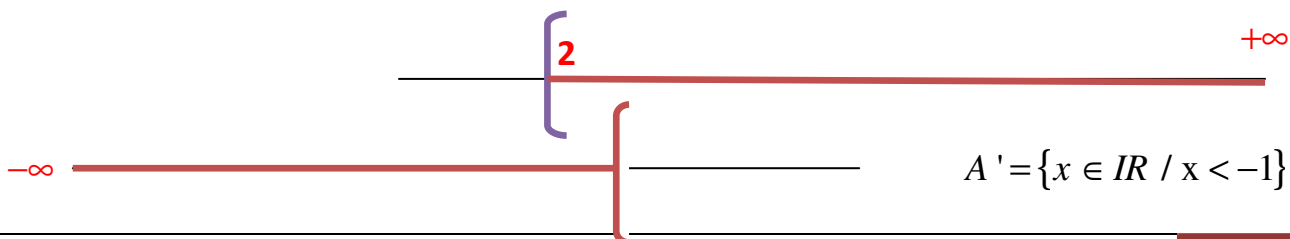
ت- بما أن : $|y| \leq \frac{3\sqrt{2}}{2}$ فان : $\frac{\sqrt{2}}{3} \times |y| \leq \frac{\sqrt{2}}{3} \times \frac{3\sqrt{2}}{2}$ أي $\frac{\sqrt{2}}{3} |y| \leq \frac{6}{6}$ إذن : $\frac{\sqrt{2}}{3} |y| \leq 1$

ث- لدينا : $|xy| \leq \frac{\sqrt{2}}{3} |y| \leq 1$ يعني $|xy| \leq 1$ وبالتالي $xy \in [-1;1]$.

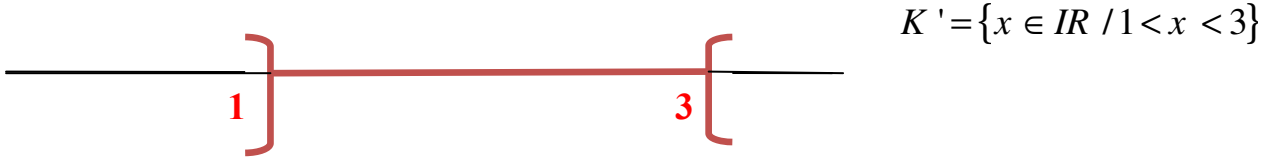
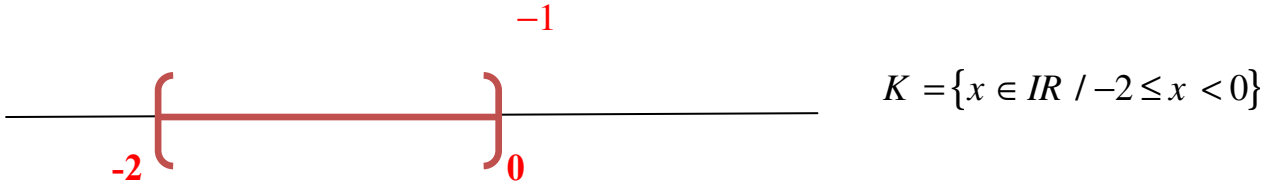
نشاط 8 صفحة 99 :

التمثيل على مستقيم مدرج

$$A = \{x \in \mathbb{R} / x \geq 2\} \quad \text{أ- (1)}$$



الحصر – المجالات – القيمة المطلقة



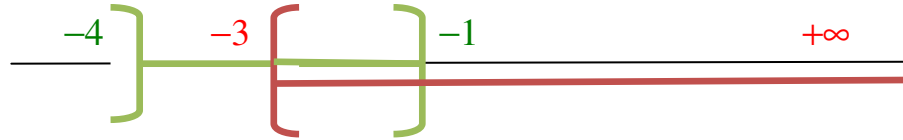
ب-كتابة المجموعات السابقة في صيغة مجال :

$$K' =]1;3[; K = [-2;0[; A' =]-\infty;-1[; A = [2;+\infty[$$

(2) أ- نعبّر عن المجالات بواسطة مجموعات :

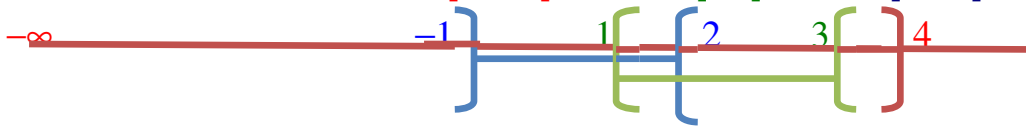
الكتابة على شكل مجموعات	الكتابة على شكل مجالات
$I = \{x \in \mathbb{R} / x \geq -3\}$	$I = [-3;+\infty[$
$J = \{x \in \mathbb{R} / x \leq 4\}$	$J =]-\infty;4]$
$B = \{x \in \mathbb{R} / -1 < x < 2\}$	$B =]-1;2[$
$C = \{x \in \mathbb{R} / 1 \leq x < 3\}$	$C = [1;3[$
$D = \{x \in \mathbb{R} / -4 < x \leq -1\}$	$D =]-4;-1]$

ب- تمثيل كلا من $I = [-3;+\infty[$ و $D =]-4;-1]$ على نفس المستقيم العددي



$$I \cup D =]-4;+\infty[\quad \text{و} \quad I \cap D = [-3;-1]$$

ج- تمثيل كلا من $B =]-1;2[$ و $C = [1;3[$ و $J =]-\infty;4]$ على نفس المستقيم العددي



$$B \cup C \cup D =]-\infty;4] \quad \text{و} \quad B \cap C \cap D = [1;2[$$

الحصر – المجالات – القيمة المطلقة

أطبق 1 صفحة 102 :

أكتب في صيغة مجال المجموعات التالية :

الكتابة الموافقة في صيغة مجال	الكتابة في صيغة مجموعات
$A = [-3; 2[$	$A = \{x \in \mathbb{R} / -3 \leq x < 2\}$
$B = [\sqrt{3}; +\infty[$	$B = \{x \in \mathbb{R} / x \geq \sqrt{3}\}$
$C =]-\infty; \frac{5}{4}]$	$C = \{x \in \mathbb{R} / x \leq \frac{5}{4}\}$
$D =]-\infty; \sqrt{\frac{7}{11}}[$	$D = \{x \in \mathbb{R} / x < \sqrt{\frac{7}{11}}\}$
$E =]-\infty; -1] \cup [1; +\infty[$	$E = \{x \in \mathbb{R} / x \geq 1\}$

أطبق 2 صفحة 102 :

أنقل على كراسك ثم أكمل الفراغات بما يناسب :

أ- $|x| \leq 3$ يعني $x \in [-3; 3]$

ب- $|x| < 2$ يعني $x \in]-2; 2[$

ت- $x < 1$ يعني $x \in]-\infty; 1[$

ث- $x \geq 0$ يعني $x \in [0; +\infty[= \mathbb{R}_+$

أطبق 3 صفحة 102 :

أ- $|x - 3| = 2$ يعني $x - 3 = 2$ أو $x - 3 = -2$ إذن : $x = 2 + 3 = 5$ أو $x = -2 + 3 = 1$

و بالتالي $S_{\mathbb{R}} = \{1; 5\}$.

ب- $|x + 2| \leq \frac{1}{2}$ يعني $-\frac{1}{2} \leq x + 2 \leq \frac{1}{2}$ يعني $-\frac{1}{2} - 2 \leq x \leq \frac{1}{2} - 2$ يعني $-\frac{5}{2} \leq x \leq -\frac{3}{2}$

ت- و بالتالي $x \in \left[-\frac{5}{2}; -\frac{3}{2}\right]$

ث- $|x + 1| \geq 3$ يعني $x + 1 \geq 3$ أو $x + 1 \leq -3$ يعني $x \geq 2$ أو $x \leq -4$ و بالتالي

$x \in]-\infty; -4] \cup [2; +\infty[$ (اتحاد مجالين)

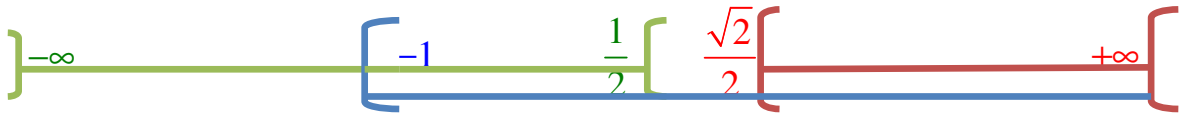
$-\infty \quad -4 \quad 2 \quad +\infty$

الحصر – المجالات – القيمة المطلقة

أطبق 4 صفحة 102 :

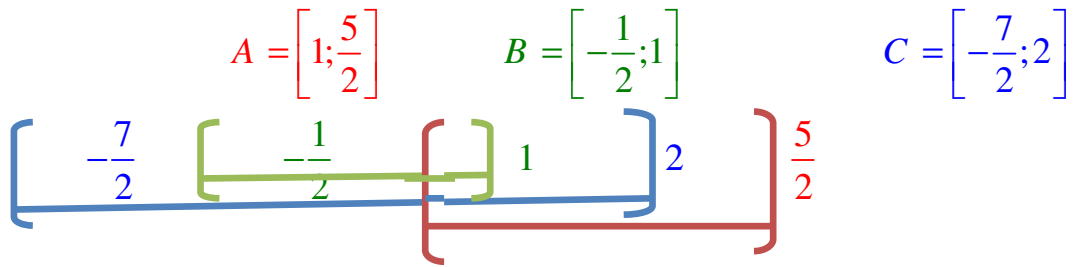
الكتابة الموافقة في صيغة مجال	الكتابة في صيغة مجموعات
$I = [-1; +\infty[$	$I = \{x \in \mathbb{R} / x \geq -1\}$
$J =]-\infty; \frac{1}{2}[$	$J = \left\{x \in \mathbb{R} / x < \frac{1}{2}\right\}$
$K = \left[\frac{\sqrt{2}}{2}; +\infty\right[$	$K = \left\{x \in \mathbb{R} / x \geq \frac{\sqrt{2}}{2}\right\}$

أ- التمثيل على نفس المستقيم العددي وتحديد التقاطعات :



ب- $I \cap J = \left[-1; \frac{1}{2}\right[$ و $K \cap J = \emptyset$ و $K \cap I = \left[\frac{\sqrt{2}}{2}; +\infty\right[$

أطبق 5 صفحة 102 :



$A \cup B = \left[-\frac{1}{2}; \frac{5}{2}\right]$ و $A \cup C = \left[-\frac{7}{2}; \frac{5}{2}\right]$ و $C \cup B = \left[-\frac{7}{2}; 2\right] = C$

الحصر – المجالات – القيمة المطلقة

تمارين حول الحصر – القيمة المطلقة – المجالات

التمرين رقم 01 :

x عدد حقيقي بحيث : $4 \leq x \leq 7$ أعط حصر العدد A حيث : $A = x + \frac{1}{x}$

التمرين رقم 02 :

إذا علمت أن : $1 < x < 2$ و $\sqrt{2} < y < 3$ و $-3 \leq z \leq -2$

1 أعط حصر لكل من : $x+z$ و xy و xz و $-2x+5$ و y^2-1

2 استنتج حصر لكل من : $x(y+z)$ و $\frac{y^2-1}{-2x+5}$ و $(x+z)^2$

التمرين رقم 03 :

x عدد حقيقي بحيث : $1,2 < x < 1,5$

1- أوجد حصر A حيث : $A = 2x - 4$

2- أوجد حصر B حيث : $B = \frac{1}{x} - 1$

3- أوجد حصر C حيث : $C = \left(x - \frac{5}{2}\right)^2$

التمرين رقم 04 :

L عدد حقيقي حيث : $L = \frac{2-2\sqrt{5}}{1+\sqrt{5}}$. أوجد حصر العدد L إذا علمت أن : $2,23 \leq \sqrt{5} \leq 2,24$

التمرين رقم 05 :

علمنا أن $1,72 \leq \sqrt{3} \leq 1,73$ و $2,23 \leq \sqrt{5} \leq 2,24$

أوجد حصر لكل من الأعداد : $\sqrt{3} + \sqrt{5}$; $\sqrt{15}$; $\frac{\sqrt{3}}{\sqrt{5}}$; $\sqrt{3} - \sqrt{5}$ و $\frac{\sqrt{3} - \sqrt{5}}{\sqrt{3} + \sqrt{5}}$

التمرين رقم 06 :

ABC مثلث قائم الزاوية في A . إذا علمت أن $2,1 \leq AB \leq 2,2$ و $3,1 \leq AC \leq 3,2$. أوجد حصر لطول الوتر

التمرين رقم 07 :

دائرة نصف قطرها r حيث : $2,7 \leq r \leq 2,8$. أوجد حصر المساحة هذه الدائرة و لتكن S إذا علمت أن : $3,14 \leq \pi \leq 3,15$

التمرين رقم 08 :

a و b و c أعداد حقيقية حيث : $3,05 \leq a \leq 3,1$ و $-5,2 \leq b \leq -5,15$ و $2,1 \leq c \leq 2,2$

أوجد حصر للعدد x و y إذا علمت أن : $x = \frac{ac^2}{b^2}$ و $y = \sqrt{x}$.

الحصر – المجالات – القيمة المطلقة

التمرين رقم 09 :

عبر بمجال أو بإتحاد مجالين عن مجموعة الأعداد الحقيقية x التي تحقق الشرط الموضح في كل حالة مما يلي :

① $1 \leq x < 4$; ② $-1 < x < \frac{3}{2}$; ③ $x \geq 2$; ④ $x < 3$; ⑤ $x \geq 5$ أو $x \leq 3$

التمرين رقم 10 :

عبر عن كل مجموعة (مجال أو إتحاد مجالين) مما يلي باستعمال المتباينات :

① $[-4; 0]$; ② $1; \frac{11}{2}$] ; ③ $]-\frac{3}{2}; +\infty[$; ④ $]-\infty; \sqrt{3}]$

⑤ $]-\infty; 1[\cup]3; +\infty[$; ⑥ $[-1; 3[\cup]3; +\infty[$

التمرين رقم 11 :

عين $I \cap J$ و $I \cup J$ في كل حالة مما يلي :

① $I = [-4; 1]$ و $J =]-1; 3]$; ② $I =]-\infty; 0]$ و $J = [0; 4[$

③ $I = [5; 12[$ و $J = [12; +\infty[$; ④ $I =]-\infty; 2[$ و $J = \left]2; \frac{13}{2}\right]$

⑤ $I =]-\infty; -1[\cup [1; +\infty[$ و $J = [-2; 0] \cup [4; 5]$

التمرين رقم 12 :

أوجد مركز كل مجال و نصف قطره ثم عبر عنه باستعمال القيمة المطلقة :

① $[2; 10]$; ② $]5; 8]$; ③ $\left] \frac{11}{4}; \frac{7}{2} \right[$

التمرين رقم 13 :

أنقل و أكمل الجدول التالي :

فإن x تحقق	إذا كانت $x \in \dots\dots$
	$x \in \left[2; \frac{13}{2}\right]$
$x \geq -4$	
$x \leq 1$ أو $x > 3$	
	$x \in \mathbb{R}^*$
$x \geq 0$	
	$x \in \mathbb{R}_-$
$x < 0$	
	$x \in \mathbb{R}_-^*$

التمرين رقم 14 :

ليكن x عدد حقيقي بحيث : $x \in [2; 3]$ و لتكن العبارة A بحيث : $A = \frac{2x^2 - 4}{x + 2}$

الحصر – المجالات – القيمة المطلقة

① بين أن : $A = 2x - 4 + \frac{4}{x+2}$

② استنتج حصرًا للعبارة A .

التمرين رقم 15 :

أنقل ثم أكمل الجدول التالي :

I	J	$I \cap J$	$I \cup J$
$]-\infty; 3]$	$]3; \frac{25}{3}[$		
$[-4; \frac{1}{2}[$	$]\frac{1}{2}; 6]$		
IR_+	IR_-		
IR_+^*	IR_-^*		
IR_+	IR_-^*		

التمرين رقم 16 :

1 / أحسب الأعداد التالية : (أكتبها دون القيمة المطلقة)

$$|\sqrt{3}-1| \quad ; \quad \left| \pi - \frac{22}{7} \right| \quad ; \quad |4\sqrt{5}-9|$$

2 / أحسب المجموعة E حيث : $E = -2|\sqrt{5}-2| + |3-2\sqrt{5}| - |\pi-3| + |\pi+6|$

التمرين رقم 17 :

مثل على مستقيم مدرج الأعداد الحقيقية x في كل حالة مما يلي :

$$|x-4|=3 \quad \textcircled{1} \quad |x+3|=1 \quad \textcircled{2} \quad |x-1|=\frac{5}{2} \quad \textcircled{3}$$

التمرين رقم 18 :

مثل على مستقيم مدرج الأعداد الحقيقية x التي تحقق الشرط في كل حالة مما يلي :

$$|x+3| \leq 5 \quad \textcircled{1} \quad ; \quad |2x-5| \leq 4 \quad \textcircled{2} \quad ; \quad |x-4| \geq 2 \quad \textcircled{3}$$

التمرين رقم 19 :

مثل على مستقيم مدرج الأعداد الحقيقية x التي تحقق الشرط في كل حالة مما يلي :

$$|x-4|=3 \quad \textcircled{1} \quad ; \quad |-2x+10|=4 \quad \textcircled{2} \quad ; \quad |x| \leq 2 \quad \textcircled{3}$$

$$|x-1,5| < 3 \quad \textcircled{4} \quad ; \quad ;$$