


الاسم:	اختبار كتابي عدد 1 في مادة التربية التكنولوجية	المدرسة الإعدادية شارع بوقيبة قرية الأستاذ : علي التراس	
اللقب:			
الرقم:			
/ 20	القسم: 7 أ ...	الضارب: 1	التوقيت: 20 دق
			التاريخ:


أ. التكنولوجيا :

السؤال الأول : (6 نقاط)

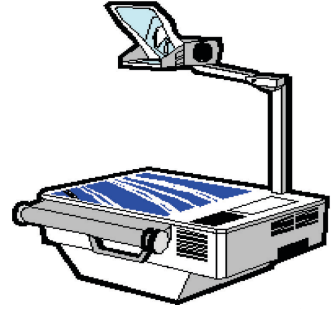
أكتب مكان النقاط اسم المجال الذي ينتمي إليه كل منتج من المنتجات التالية :




..... مجال



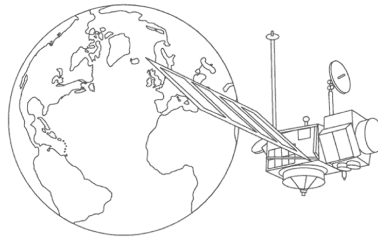
..... مجال




..... مجال



..... مجال



..... مجال


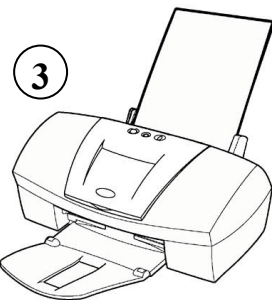
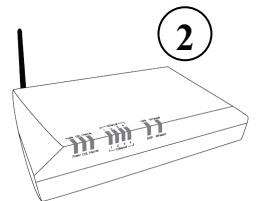



..... مجال

ب. استعمال الحاسوب :

السؤال الثاني : (6 نقاط)

أكتب اسم كل عنصر من عناصر الحاسوب أمام رقمه المناسب :



..... /3

..... /2

..... /1

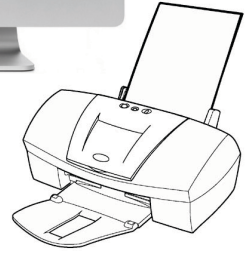
..... /6

..... /5

..... /4

السؤال الثالث : (3 نقاط)

أربط كل صورة عنصر من العناصر التالية بالوظيفة المناسبة له .



تطبع النصوص أو الصور
المنشورة على الشاشة.

تنشر كل المعلومات الخاصة
بالبرامج الموجودة بذاكرة الوحدة
المركزية

بإمكاننا النقر على ملامسها لكتابة
النصوص أو لإعطاء الأوامر.

III. دورة حياة المنتج :

السؤال الرابع : (5 نقاط)

أتمم الجدول التالي بما يناسب مستعينا بالمعطيات التالية :

يشترى المستهلك المنتج و يستعمله - A₅ - الإنتاج - تحليل الحاجة - A₃ - الاستعمال -
صناعة نموذج للمنتج و ذلك لتجربته - A₇ - البحث عن الحل الأفضل و الأقل ثمنا - A₁

الرّمز	اسم النشاط	تعريفه
.....	صنع المنتج بأعداد كبيرة مع المراقبة المستمرة للقياسات و جودة الصّنع.
.....	التصوّر
A ₉
.....	التأكد من أن هناك فعلا حاجة إلى ذلك المنتج.
.....	التصنيع



معلومة لنا