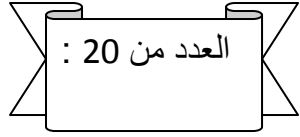


المدرسة الإعدادية أحمد بن أبي الضياف المحمدية	فرض مراقبة عدد 01 العلوم الفيزيائية المدة : 30 دقيقة	الأستاذة : فتحية بلقاسم التاريخ : 2015 / 10 / 17 المستوى : 9 أساسي ...
---	--	--

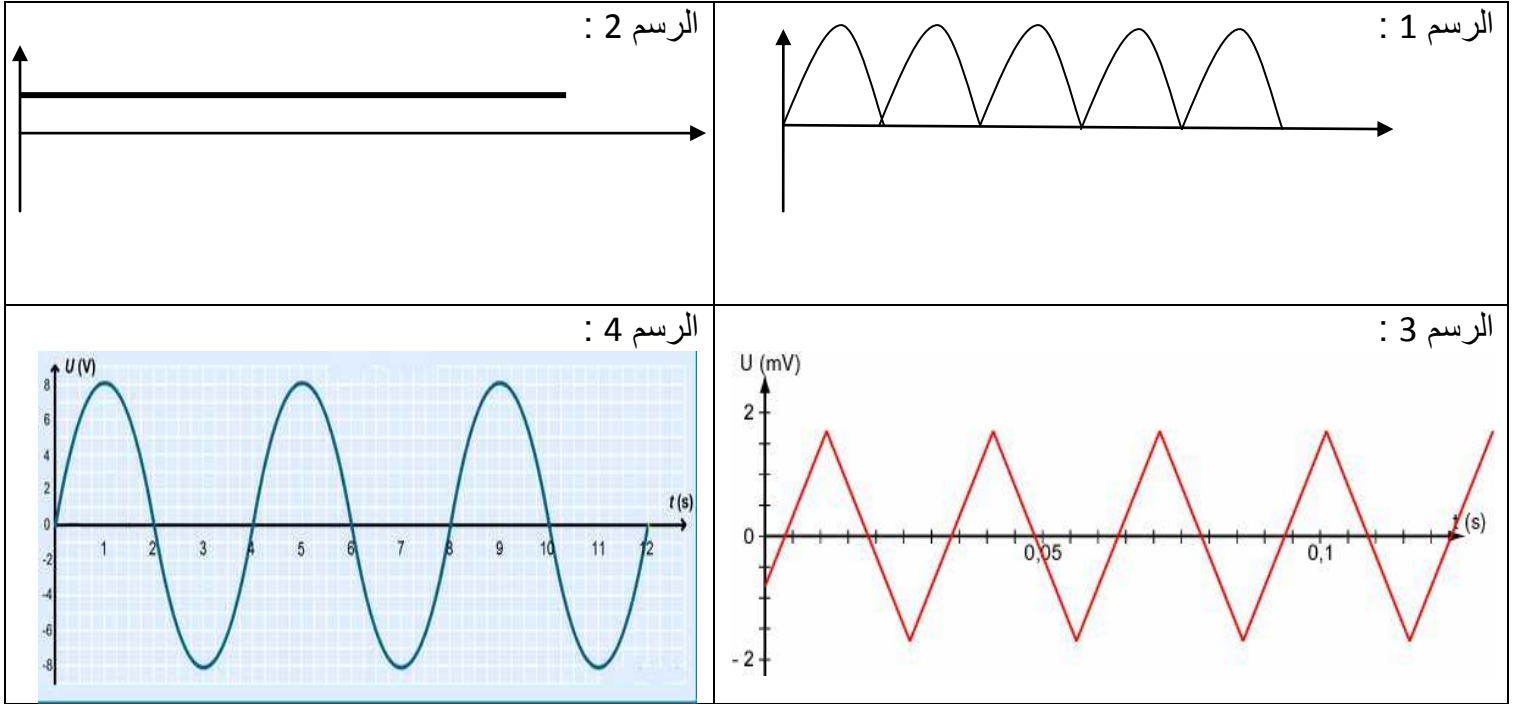


الإسم : اللقب : الرقم : ...
الملاحظة :

تمرين عدد 01 : (10 نقاط)

* عرف التيار الكهربائي المتغير : (2ن)

* تمثل الرسوم التالية تطورا لتوترات كهربائية بدلالة الزمن :

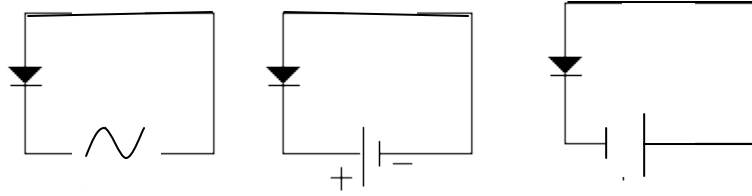


أذكر الرسم أو الرسوم التي تمثل : (8ن)

- توترا مستمر :
- توترا متغيرا :
- توتر متناوبا :
- توترا متناوبا جيبي :

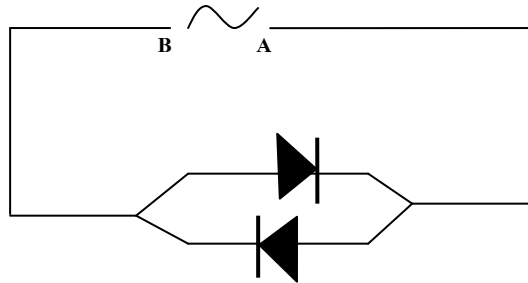
تمرين عدد 02 : (10 نقاط)

* تأمل الرسوم التالية , ثم حدد كيف يشع الصمام في كل وضعية : (يرف , يضيء , لا يضيء) (3ن)



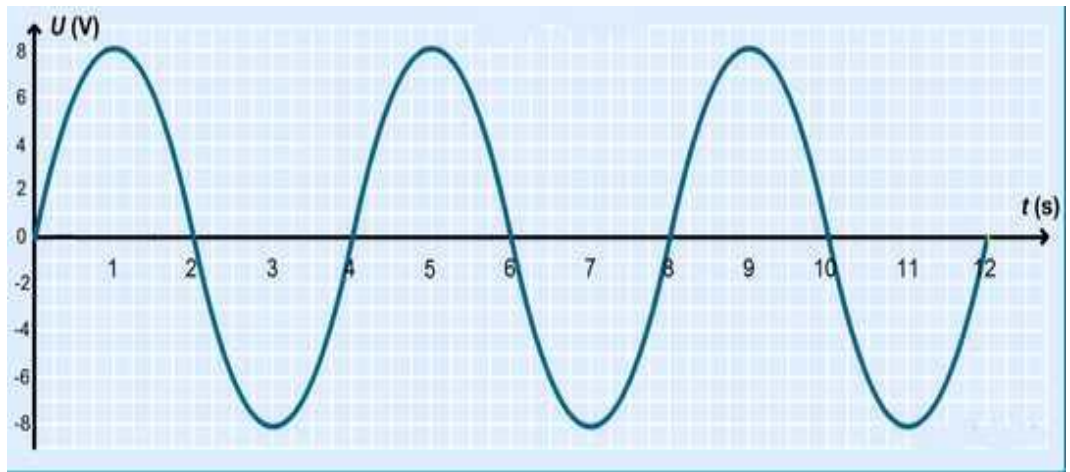
.....

*تأمل الدارة التالية :



.....-أذكر كيف يشع الصمامان : (2ن)
-علل إجابتك : (1ن)

-نصل قطبي جهاز التغذية بقطبي مشواف الذبذبات :



-حدد نوع التوتر بين قطبي جهاز التغذية : (1ن)

-حدد قيمة التوتر في الفترات التالية : (مع تحديد وحدة القيس) (3ن)

..... : الثانية 1

..... : الثانية 2

..... : الثانية 3